

## 單元 6 區 域

### 6-1 區域劃分

#### 單 選

難易度：易

1. 對於「區域」的敘述，下列何者正確？ (A) 四大區域的劃分僅限於臺灣本島，離島則另外成區 (B) 臺灣劃分為東、西、南、北四大區域 (C) 臺灣的四大區域劃分以山脈為界 (D) 指在某些自然或人文條件上，具相似性的空間

<答案> D

<解析> (A) 澎湖劃歸南部區域

難易度：中

2. 臺灣各地不斷發展，逐漸產生各自的特色，我們可將這些「特色」做為區域劃分的依據，將臺灣分為四大區域。下列哪些是上文所指的「特色」？ (A) 氣候條件、地形主體 (B) 人口密度、社會文化 (C) 自然條件、人文環境 (D) 人口分布、交通發展

<答案> C

#### 填 充

難易度：易

3. 區域是指在 ( ) 條件或 ( ) 因素上，具有相似性的空間範圍。

<答案> 自然，人文

### 6-2 臺灣的區域特色

#### 單 選

難易度：易

1. 新竹市平均每 100 人中有 4 人具有研究所以上學歷，比例為全臺之冠。這和下列哪種因素最相關？ (A) 新竹人比其他地方的人聰明 (B) 選擇新竹做為論文研究區最為妥當 (C) 新竹擁有清華大學、交通大學、工研院等學術機構 (D) 新竹市為臺灣北部的政治經濟文化中



心

<答案> C

難易度：易

2. 臺灣哪個區域有濁水溪流貫其間，水源充足，平原廣大，農業條件佳，近年來轉型為精緻農業與休閒農業？ (A) 北部區域 (B) 中部區域 (C) 南部區域 (D) 東部區域

<答案> B

難易度：易

3. 小華暑假去外島玩，看到了壯觀的柱狀玄武岩、漂亮的雙心石滬與跨海大橋，還在海灘旁玩了許多水上活動。小華去的是臺灣哪個離島？ (A) 金門 (B) 馬祖 (C) 綠島 (D) 澎湖

<答案> D



難易度：易

4. 蕙蓀林場原始森林林相非常豐富，具有山林景觀，可做森林浴、賞鳥、生態巡禮等多種活動，是值得造訪的觀光景點。惠蓀林場所在的南投縣，位於附圖中哪個區域？ (A) 甲 (B) 乙 (C) 丙 (D) 丁

<答案> B



難易度：易

5. 臺灣在政府積極推動下，各區域廣設以高科技產品為主的科學工業園區。附圖中的哪區域因位置、交通等條件限制，而沒有設立科學工業園區？ (A) 北部區域 (B) 中部區域 (C) 南部區域 (D) 東部區域

<答案> D



難易度：易

6.臺北市位居臺北基隆大都會區的核心，是臺灣的政治、經濟及文化重心。臺北市位於附圖中的哪個區域？ (A)甲 (B)乙 (C)丙 (D)丁



<答案> A

難易度：易

7.臺灣東部區域由於山脈阻隔的先天環境限制，與其他區域聯絡不便，對外交通不發達，因此經濟發展較為緩慢，也因此得以保留豐富的自然原始風貌。下列哪些屬於東部區域的縣市？ (A)雲林、嘉義 (B)屏東、臺東 (C)花蓮、臺東 (D)南投、宜蘭

<答案> C

難易度：易

8.盧卡斯的工作，經常要四處旅行。某次因工作需要到馬祖，他上中央氣象局網站，查詢當地的天氣狀況。盧卡斯應該在網站中的哪個分區，才能搜尋到想要的資料？ (A)北部 (B)南部 (C)中部 (D)離島

<答案> D



難易度：易

9.臺西沿海地區的牡蠣田，近幾年來因漂沙覆蓋，潮間帶日漸縮小，產量銳減，蚵民疑為六輕離島工業區抽沙造陸所造成，導致經濟發展與環境保護再次對壘，此一事件發生地點應該在哪個縣市？ (A)彰化縣 (B)雲林縣 (C)嘉義縣 (D)屏東縣

<答案> B



難易度：易

10.上課時，老師要同學根據產業、經濟的發展，形容各個區域的發展特色。下列哪位同學的形容有誤？ (A)薛海：「臺南市以文化古都聞名全臺。」 (B)寶珠：「臺中市是中部最大的城市。」 (C)欣雅：「宜蘭縣是臺灣蔬菜的最大產地。」 (D)蘇沛：「南投縣是觀光資源豐富的內陸縣。」

<答案> C



難易度：易

11.中央山脈為臺灣的脊梁，其對臺灣的影響，下列哪項是錯誤的？ (A)臺灣主要河流的分水嶺 (B)東部區域開發較晚 (C)山地的面積大於平地 (D)山區降水量多於平地

<答案> C

難易度：易

12.「沿海多沼澤、瀉湖，養殖漁業特別發展；臺灣最大的海岸溼地，是黑面琵鷺冬季的樂園。」上文描述的景觀是附圖中哪個地區的海岸？



(A)甲 (B)乙 (C)丙 (D)丁

<答案> C

難易度：易

13.茜茜暑假打算從嘉義往南繞過屏東，再從東部一路玩回臺北。在旅程中，她可能看不到下列哪種地形？ (A)瀉湖 (B)斷崖 (C)柱狀玄武岩 (D)珊瑚礁石

<答案> C

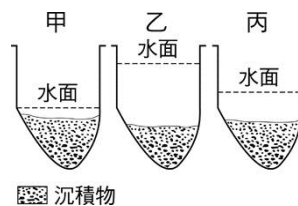
難易度：易

14.小樂參加畢業旅行時，在遊覽車上看到許多的養殖魚塭景觀，每個魚塭裡還有水車濺起的白色水花，後方可見碧海藍天的海岸。此時遊覽車應正行駛在臺灣的哪個區域？ (A)北部區域 (B)金馬地區 (C)南部區域 (D)東部區域

<答案> C

難易度：易

15.附圖是南部區域曾文溪的河道某地點在不同季節主要水位示意圖。(甲)圖最可能出現在哪個季節？ (A)春 (B)夏 (C)秋 (D)冬



<答案> D

難易度：易

16.臺灣缺乏自然資源，長久以來即發展出「海島型經濟」，在世界經濟體系中居重要地位，進口原料在製成工業產品輸出。臺灣最大海港為高雄港位於下列哪個區域？ (A)北部區域

(B)中部區域 (C)南部區域 (D)東部區域

<答案> C



難易度：易

17.在臺灣西南部沿海，我們常可見大片的魚塭景觀，主要以生產虱目魚、草蝦等，此種經濟活動稱為什麼？ (A)遠洋漁業 (B)近海漁業 (C)養殖漁業 (D)淡水漁業

<答案> C

難易度：易

18.南部區域是臺灣典型的沙質海岸，在這裡看不到下列哪種人文景觀？ (A)魚塭養殖 (B)消波塊 (C)鹽田、鹽山 (D)磯釣

<答案> D

難易度：易

19.(甲)新店溪(乙)濁水溪(丙)大甲溪(丁)曾文溪。以上哪兩條河川流經中部區域，因為坡陡流急，富水力，兩溪合占全臺水力發電量的 68%？ (A)甲、乙 (B)乙、丙 (C)乙、丁 (D)甲、丙

<答案> B

難易度：易

20.為提升臺灣中部的經濟發展，下列哪項建設位於中部區域？ (A)安平港 (B)新竹科學工業園區 (C)屏東生物科技園區 (D)雲林離島工業區

<答案> D

難易度：易

21.比較北、中、南、東部四大區域，下列哪項是東部區域較為優越的條件？ (A)環境品質 (B)教育發展 (C)國民所得 (D)交通運輸

<答案> A



難易度：易

22.「還記得你說家是唯一的城堡，隨著稻香河流繼續奔跑，微微笑小時候的夢我知道，不要哭讓螢火蟲帶著你逃跑，鄉間的歌謠永遠的依靠……」這是歌手周杰倫創作的《稻香》部分歌詞。下列何處最不可能是歌詞中描述的場景所在地區？ (A)甲 (B)乙 (C)丙 (D)丁

<答案> D

<解析>甲乙丙皆屬平原地帶



難易度：易

23.臺北 101 大樓的跨年煙火秀是每年臺灣跨年晚會的重頭戲，下列四位民眾，哪位前往臺北所花費的時間最長？ (A)宜蘭的陳寶榮開車經由雪山隧道 (B)澎湖的楊果搭飛機到松山機場 (C)高雄的英雄搭高鐵到臺北車站 (D)花蓮的任孝國開車經過中部橫貫公路

<答案> D

難易度：易

24.全臺灣經濟發展並不平均，目前最有競爭力的前十個縣市中，有六個集中在某一個區域，經濟發展十分蓬勃。以上所述係指哪個區域？ (A)北部區域 (B)中部區域 (C)南部區域 (D)東部區域

<答案> A

難易度：易

25.電影《海角七號》帶動國片熱潮，也炒紅了墾丁。墾丁氣候四季溫和，特別是秋冬之季，涼爽又不冷，是最好旅遊時節。素以珊瑚礁海岸聞名的墾丁，位在臺灣境內的哪個區域？ (A)北部區域 (B)中部區域 (C)金馬地區 (D)南部區域

<答案> D



難易度：易

26.中部區域的高度發展地帶以臺中市為核心，因處於南北交通的樞紐，位置重要。所發展出來的都會區稱為什麼？ (A)臺中南投大



都會區 (B)臺中雲林大都會區 (C)臺中彰化大都會區 (D)臺中嘉義大都會區

<答案> C

難易度：易

27.北部區域的產業以第二、三級產業為主，工商業活動相當發達，工業產品多銷往海外，與世界各國貿易互動密切。本區若要以海運對外出口，下列哪個縣市的國際港最方便？ (A)高雄市 (B)基隆市 (C)花蓮縣 (D)臺中市

<答案> B

難易度：易

28.西南沿海一帶昔日是晒鹽重鎮，現今多已式微，鹽田景觀只能在如七股鹽山等風景區才能見得。七股鹽山位於附圖中的哪個區域？ (A)甲 (B)乙 (C)丙 (D)丁

<答案> C

難易度：易

29.雲林、彰化地區的農業發展在加入 WTO 之後，面臨強大的轉型的壓力，今已積極朝向精緻化農業與觀光休閒農業發展。以上所述地區位於臺灣哪個區域？ (A)北部區域 (B)中部區域 (C)南部區域 (D)東部區域

<答案> B


難易度：易

30.蔣渭水高速公路全線通車後，利用雪山隧道，大幅縮短了臺北與宜蘭兩地的車程。雪山隧道的開通，有助於臺灣哪個區域內的交通往來？ (A)北部區域 (B)中部區域 (C)南部區域 (D)東部區域

<答案> A

難易度：易

31.阿馨在網路上看到一個地區的風景照，便對此地十分嚮往，附圖便是他在網路上看到的其中一張照片。該地



地位於臺灣的哪個區域？ (A)北部區域 (B)中部區域 (C)南部區域 (D)東部區域

<答案> C

<解析>附圖為澎湖風景照，位於南部區域的範圍

難易度：易

32.臺中小花和花蓮好友 JoJo 雖然相隔不遠，但兩地交通受阻於自然屏障而無法經常見面，所謂的「自然屏障」是指下列何者？ (A)雪山山脈 (B)海岸山脈 (C)中央山脈 (D)阿里山山脈

<答案> C

難易度：易

33.瑞凡想利用假期跟家人好好度個假，經過家庭會議後決定去臺灣污染最少、風景優美、環境品質佳的地方。此次旅遊行程會是下列何地？ (A)高雄旗津吃烤小卷 (B)花蓮七星潭漫步 (C)臺北陽明山摘海芋 (D)臺南府城看古蹟

<答案> B

難易度：易

34.剛從英國來臺的夏綠蒂，參加臺灣每年二月到六月蘭嶼舉辦的「飛魚季」活動，在當地看到深具原住民色彩的拼板舟。夏綠蒂所參加的活動是臺灣哪個地區的觀光活動？ (A)東部 (B)北部 (C)中部 (D)南部

<答案> A

難易度：易

35.臺灣早期依賴日晒法引海水製鹽，下列那個地區因為氣候條件適合，使其有規模較大的鹽田？ (A)基隆 (B)臺南 (C)花蓮 (D)新竹

<答案> B

難易度：易

36.臺中市於民國九十九年升格為直轄市，不僅有利於臺中市發展，更帶動中部區域五縣市生活圈之整體規劃。下列哪個縣市不在其影響範圍之內？ (A)南投縣 (B)雲林縣 (C)嘉義縣 (D)苗栗縣

<答案> C



難易度：易

37.某公司即將在年終舉辦員工旅遊，經問卷調查，多數員工希望此次旅遊能達到如附表的五

項目標。該公司應選擇下列何處，才能滿足多數員工的期望？ (A)花蓮縣 (B)宜蘭縣 (C)雲林縣 (D)屏東縣

1	在乾晴的天氣下旅遊
2	參觀養殖漁業作業情形
3	實察地層下陷的景觀
4	品嚐當地特產黑珍珠蓮霧
5	觀賞珊瑚礁海岸風光



<答案> D

難易度：易

38.哪個地區因位在車籠埔斷層以西，九二一大地震後災情慘重，可藉由實施都市更新來協助災區重建？ (A)臺中盆地 (B)花東縱谷平原 (C)宜蘭平原 (D)新竹丘陵

<答案> A

難易度：易

39.臺灣具有坡陡流急、降雨充沛的自然特性，水力成為相當重要資源。下列哪個區域因為有源自於中央山脈的大甲溪、濁水溪等河川，水力發電量占全國一半以上？ (A)北部區域 (B)中部區域 (C)南部區域 (D)東部區域

<答案> B

難易度：易

40.北部區域由於交通建設發達，逐漸發展為臺灣的工業重鎮，下列哪項交通建設對北部的工業發展幫助最小？ (A)基隆港 (B)蘇花公路 (C)臺灣桃園國際機場 (D)中山高速公路

<答案> B

難易度：易

41.臺南市七股區的鹽田景色，向來有熱帶雪景的美稱，顯見臺灣南部的製鹽產業十分發達，除了當地擁有平直廣闊的海岸外，同時具有哪項特色？ (A)勞動人口眾多 (B)海水品質優良 (C)氣候夏雨冬乾 (D)傳承日本技術

<答案> C

難易度：易

42.蔣小花想要到臺灣中部享受田園之樂，下列哪個行程能符合她的期待？ (A)臺北陽明山採海芋 (B)彰化田尾賞花 (C)臺南甲仙吃芋

頭 (D)臺東太麻里採金針

<答案> B

難易度：易

43.(甲)野柳(乙)清水斷崖(丙)曾文溪口溼地(丁)田尾花卉，是臺灣著名的觀光景點，若由北方以逆時針方向排列，正確的順序為何？ (A)甲乙丙丁 (B)丙甲乙丁 (C)乙丙甲丁 (D)甲丁丙乙

<答案> D

難易度：易

44.臺灣南部有許多水利設施，如烏山頭水庫、嘉南大圳、曾文水庫等，這些水利設施的興建與當地哪種自然特徵最為相關？ (A)年降水量少 (B)降水季節分布不均 (C)日照強烈、蒸發量大 (D)沿海地區地層下陷

<答案> B

難易度：易

45.下列哪個都市港口擴建，加上周邊規劃眾多的工業區，已成為全臺鋼鐵、石化等工業的重鎮？ (A)臺北 (B)臺中 (C)高雄 (D)花蓮

<答案> C

難易度：易

46.居住於臺東外海的蘭嶼，每年三月舉行飛魚祭、特殊的半穴屋、祖先智慧累積的拼板舟，以上這些是器物、祭典是哪個原住民族的文化？ (A)阿美族 (B)達悟族 (C)泰雅族 (D)排灣族

<答案> B

難易度：易

47.臺灣某地區由於養殖漁業發達，超抽地下水導致地層下陷，該地區位於臺灣哪個區域？ (A)北部區域 (B)中部區域 (C)東部區域 (D)南部區域

<答案> D

難易度：易

48.澎湖居民過去常以漁業維生，近年來哪項產業興起，使得產業發展主軸產生變化？ (A)博弈產業 (B)觀光產業 (C)郵輪產業 (D)科技產業



<答案> B

難易度：易

49.來自日本的木村想要欣賞臺灣原住民的文化特色，他可以前往下列哪個縣市？ (A)臺東縣 (B)雲林縣 (C)新北市 (D)金門縣

<答案> A

難易度：易

50.臺灣現今有八座國家公園，其中一座國家公園以戰地歷史文化為特色，此座國家公園位於附圖中哪個地方？ (A)甲 (B)乙 (C)丙 (D)丁



<答案> D

難易度：易

51.《天下雜誌》評比的一千大製造業、五百大金融業與一百大服務業的分布，主要集中在附圖的哪個區域？ (A)甲 (B)乙 (C)丙 (D)丁



<答案> A

難易度：易

52.出身《超級星光大道》的歌唱好手舞思愛，是一位從小就愛唱歌的臺灣原住民女孩，渾然天成的歌聲，讓人動容。臺灣的哪個區域，保留的原住民文化最豐富？ (A)北部區域 (B)中部區域 (C)南部區域 (D)東部區域

<答案> D

難易度：易

53.全國最大的石化工業區「雲林離島式基礎工業區」，位於附圖中的哪個區域？ (A)甲 (B)乙 (C)丙 (D)丁



<答案> B

難易度：易

54.臺灣北部區域工商業發達，交通網絡密度高，對外有二個重要交通門戶，空運有臺灣桃園國際機場，海運有下列哪個國際港口？ (A)

臺中港 (B)基隆港 (C)花蓮港 (D)高雄港

<答案> B

難易度：易

55.從前因兩岸關係而實施戰地政務，直至近年兩岸關係日趨緩和，才解除管制，昔日許多戰時遺跡也成為另類的觀光產業資源。另外，小三通實施後，更促進兩岸交通的頻繁往來。以上所述地區屬於臺灣哪個區域？ (A)北部區域 (B)中部區域 (C)金馬地區 (D)東部區域

<答案> C

難易度：易

56.附圖為某一種保育鳥類，每年都會到臺灣的溼地過冬，賞鳥人士若想欣賞牠們的芳蹤，應該前往以下哪個地區？ (A)臺東縣 (B)基隆縣 (C)臺南市 (D)南投縣



<答案> C

難易度：易


57.玲瓏看到爸爸去旅遊時所拍攝的照片，是一隻披著披肩的獅子，覺得十分有趣，便問爸爸照片中是什麼動物。爸爸告訴她：「這是因為某個離島的風很大，居民為了鎮住強風所設的風獅爺。」玲瓏的爸爸是到哪個島嶼旅遊？ (A)綠島 (B)金門 (C)蘭嶼 (D)澎湖

<答案> B

難易度：易

58.江蜜搭乘火車到臺灣南部區域旅行，其中有一張照片是她經過「北回歸線」標誌塔拍攝的。這張照片最有可能是哪個地區拍攝的？ (A)新北市 (B)屏東縣 (C)臺南市 (D)嘉義縣

<答案> D



難易度：易



59.正夯的美食節目《食尚玩家》出外景，這一集主持人浩角翔起來到高雄探索老城區的古早味，浩子與阿翔說：「想一探打狗城的經典老味道嗎？本集的《食尚玩家》您一定不能錯過……」上述節目介紹的高雄美食，位於附圖中的哪個區域？ (A)甲 (B)乙 (C)丙 (D)丁



<答案> C

難易度：易

60.近年來，東部區域的休閒產業活動日益增多，每逢假日，前往度假或遊玩的人潮絡繹不絕，對臺北民眾而言，哪條公路的通車，有助於促進北部區域內部交通的便捷性？ (A)蔣渭水高速公路 (B)福爾摩沙高速公路 (C)中山高速公路 (D)中部橫貫公路



<答案> A

難易度：易

61.澎湖為四周臨海的島縣，無法以陸路聯繫臺灣本島，僅能靠海、空運輸，其在臺灣區域劃分上屬於哪個區域？ (A)北部區域 (B)中部區域 (C)南部區域 (D)東部區域

<答案> C

難易度：易

62.附表為甲、乙、丙、丁四個區域冬、夏降水量分配百分比。哪個地區最能代表臺灣北部區域降水特性？ (A)甲 (B)乙 (C)丙 (D)丁

地區 \ 季節	夏季	冬季
甲	79%	21%
乙	78%	22%
丙	62%	38%
丁	90%	10%



<答案> C

難易度：易

63.臺灣嘉義布袋、臺南北門、七股等沿海一帶是主要的鹽田分布區，鹽田主要分布於下列哪個區域？ (A)北部區域 (B)中部區域 (C)南部區域 (D)東部區域

<答案> C

難易度：易

64.由於鹽田需要某些條件配合，所以多集中於臺灣西南沿海，上述所提及的某些條件不包括下列何者？ (A)有廣大海埔地 (B)乾溼季分明 (C)開發時間早 (D)日照時間長

<答案> C

難易度：易

65.就臺灣而言，東部區域擁有哪項優勢？ (A)未受汙染的景觀 (B)面積廣大的耕地 (C)良好穩定的氣候 (D)完善的開發計畫

<答案> A

難易度：中

66.臺灣南部區域夏雨冬乾，造成南部區域冬季少雨的原因為何？ (A)地形平坦 (B)位處背風坡 (C)土壤不能涵養水源 (D)位於北回歸線以南

<答案> B



難易度：中

67.選秀節目《超級 X 光大道》中，有許多參賽者多來自於原住民部落，渾然天成的嗓音讓大家為之陶醉。目前臺灣四區域中，哪個區域原住民文化最為豐富？ (A)北部區域 (B)中部區域 (C)南部區域 (D)東部區域

<答案> D

難易度：中

68.目前臺灣正在發展高科技產業，下列哪個工業園區以電子及精密機械或生物科技研發為主？ (A)屏東 (B)嘉義 (C)新竹 (D)宜蘭

<答案> C

難易度：中

69.「在這斷層陷落的構造盆地中，溪流夾帶的泥沙堆積形成盆底平原，盆底西緣為台地地形，台地以南、以西是臺灣最廣大的嘉南平原。」這本雜誌所介紹的地方是臺灣何處？ (A)臺北盆地 (B)臺中盆地 (C)埔里盆地 (D)泰源盆地

<答案> B

難易度：中

70.臺灣花卉博覽會吸引大批觀光人潮，可以看到田尾特有的夜間電燈照菊花的景象，同時具有教育文化與觀光遊憩的功能。此產業活動屬於下列何者？ (A)粗放農業 (B)有機農業 (C)高科技產業 (D)休閒農業

<答案> D

難易度：中

71.「環保人士抗議奏效，農林廳長承諾七股鄉黑面琵鷺保護區維持一千餘公頃。」此則報導所說的黑面琵鷺棲息地，是位在下列哪個區域的河川出海口？ (A)北部區域 (B)東部區域 (C)南部區域 (D)中部區域

<答案> C

<解析>該保護區位於曾文溪出海口，故屬於南部區域

難易度：中

72.玲蓉與世淵回到兩人初次相遇的澎湖島上拍照留念，照片的背景是著名的玄武岩地形。玲蓉與世淵相遇的地區應該是屬於臺灣的哪個區域？ (A)東部區域 (B)北部區域 (C)中部區域 (D)南部區域

<答案> D

難易度：中

73.臺灣南部區域為讓當地居民日常用水不虞匱乏，須興修水庫等水利設施，這是因為該區域乾季特別長，主要降水大部分集中在哪個季節？ (A)夏季 (B)冬季 (C)春季 (D)秋季

<答案> A

難易度：中

74.早期臺灣的鹽田主要分布於日照時間長、降雨較少的區域，下列哪個地區不可能包括在內？ (A)雲林 (B)基隆 (C)臺南 (D)嘉義

<答案> B

<解析>南部地區冬季乾燥少雨

難易度：中

75.臺灣南部河川遭受汙染的程度，往往比北部來得嚴重，其汙染物留滯在河床的原因，與南部河川的哪種特性最有關係？ (A)流量變化較大 (B)河流坡度較陡 (C)河流長度較長

(D)流域面積較廣

<答案> A



難易度：中

76.臺灣因為受到地形和季風的影響，造成臺灣降水的空間分布不一。下列何者為臺灣降水的特徵？ (A)全臺冬季雨量皆多於夏季 (B)北部全年有雨 (C)東部夏雨為主且乾溼分明 (D)南部冬雨為主

<答案> B

難易度：中

77.瓦力想利用假期跟家人好好度個假，經過家庭會議後決定去臺灣汙染最少、風景優美的地方。他的旅遊行程會是下列哪個？ (A)高雄旗津吃烤小卷 (B)南投埔里參觀酒廠 (C)臺北陽明山摘海芋 (D)花蓮瑞穗農場體驗

<答案> D

難易度：中

78.永歆對於臺灣的戰地史蹟及文化景觀十分有興趣，如果想要送他禮物，下列哪個最適合？ (A)陽明山國家公園一日遊套票 (B)雪霸國家公園的照片一套 (C)玉山國家公園的導覽地圖 (D)前往金門國家公園的機票

<答案> D

難易度：中

79.花媽一心想去欣賞大理石峽谷的美景。如果不出國，在臺灣哪個區域也可以看到此種地形景觀？ (A)北部區域 (B)中部區域 (C)東部區域 (D)金馬地區

<答案> C

難易度：中

80.臺灣某單位的員工，上個月組團到西亞沙烏地阿拉伯參訪當地的石化工廠，學習該國的石化技術，出訪的團體最有可能是下列哪個單位？ (A)農委會 (B)高雄港務局 (C)雲林六輕工業區 (D)潭子加工出口區

<答案> C

難易度：中

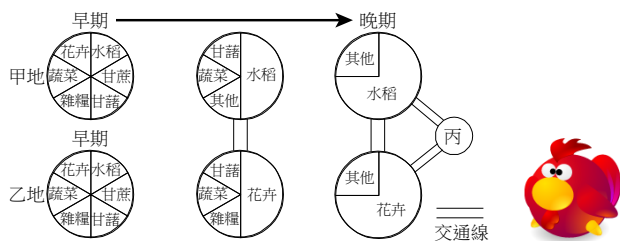


81.臺灣的茶農多選擇丘陵、山地種植茶樹，如著名的日月潭紅茶就是產於南投縣魚池鄉，由此推測，茶樹適合生長的氣候環境為何？ (A)多雲霧之區 (B)多雨之區 (C)多風之區 (D)多陽光之區

<答案> A

難易度：中

82.附圖是彰化縣甲、乙兩地區的農業土地利用變化情形。這種變化情形最能以下列哪個概念來解釋？ (A)農業專業化 (B)農業機械化 (C)農業集約化 (D)都市化



<答案> A

難易度：中

83.冬季臺灣南部區域為乾季，而北部區域卻陰雨連綿，如此的氣候差異，受到下列哪項因素的影響最大？ (A)地勢高低 (B)季風風向 (C)緯度高低 (D)距海遠近

<答案> B

難易度：中

84.臺灣四大區域中，其中哪個區域位於縱谷地形上？ (A)北部區域 (B)中部區域 (C)南部區域 (D)東部區域

<答案> D

<解析> (D)東部有花東縱谷平原

難易度：中

85.關於臺灣四大地理區的差異，下列敘述何者正確？ (A)九二一大地震使南部區域受創嚴重 (B)東部區域擁有豐富的原住民文化 (C)中部區域是臺灣最大的都會區 (D)北部區域的地形以平原為主體

<答案> B

<解析> (A)中部；(C)北部；(D)盆地

難易度：中

86.目前臺灣正在發展高科技產業，下列哪個科學工業園區以電子及精密機械或生物科技研發

為主？ (A)屏東 (B)嘉義 (C)新竹 (D)宜蘭

<答案> C

難易度：中

87.臺中市市長大選，下列四位候選人，分別針對都市問題提出解決之道。這四位候選人的政見中，誰的觀察最透徹，見解也最符合時宜？ (A)蔡一霖：「臺中市目前交通壅塞問題嚴重，高速鐵路通車後，一定能有所改善。」 (B)周詒倫：「臺中市的人口呈現高齡化與少子化現象，有必要藉由外籍勞工來解決勞力不足的問題。」 (C)蕭競騰：「為了解決房價過高的問題，市政府將大肆蒐購臺中市土地，興建國宅供民眾選購。」 (D)林又家：「清查臺中市老舊街道，進行徵收與重新規劃，利於社區營造與都市更新。」

<答案> D

難易度：中

88.臺灣早期具有港口機能的都市，以「一府二鹿三艋舺」最為著名，上述三個港口並沒有分布在臺灣哪個區域？ (A)北部區域 (B)中部區域 (C)南部區域 (D)東部區域

<答案> D

難易度：中

89.2008年最熱門的電影《海角七號》帶動了屏東墾丁的觀光產業，也帶動了「馬拉桑風潮」，而小米酒「馬拉桑」產地位於南投信義鄉，該產地位於臺灣的哪個區域？ (A)北部區域 (B)中部區域 (C)南部區域 (D)東部區域

<答案> B



難易度：中

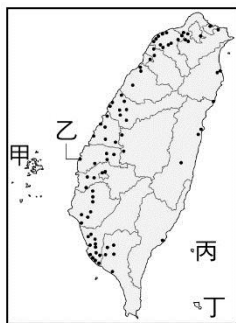
90.附圖中哪個區域的水泥產業發展規模最大？ (A)甲 (B)乙 (C)丙 (D)丁

<答案> D



難易度：中

91. 台塑麥寮廠用地位於填海造陸而成的離島式基礎工業區，該工業區位於圖中何處？ (A)甲 (B)乙 (C)丙 (D)丁



<答案> B

難易度：中

92. 蔡進來是個自助旅行達人，喜歡到臺灣各地遊玩。某次他設計了一趟「臺灣感性之旅」，一路景觀從寬闊的平原，漸漸來到盆地地形，最後落腳的地方一眼望去盡是崎嶇的丘陵。根據上述路線，下列哪個行程才是蔡進來的感性之旅？ (A)花蓮→臺東 (B)嘉義→新竹 (C)南投→臺東 (D)新竹→臺北

<答案> B

<解析> (B)嘉南平原→臺中盆地→苗栗丘陵→新竹丘陵

難易度：中

93. 臺灣的降水量分布深受季風和地形影響。下列哪個區域冬夏季節降水量分布較平均，無明顯乾溼季之分？ (A)北部區域 (B)中部區域 (C)南部區域 (D)東部區域

<答案> A

難易度：中

94. 世昌是生活在清朝末年的艋舺商人，關於他的生活經驗，下列何者正確？ (A)世昌可藉著劉銘傳大人所修築的鐵路，進入山區開伐木材 (B)淡水河流量穩定，世昌可藉由河運運輸貨品 (C)沿海海運不發達，世昌的貨品要賣到安平必須靠陸運 (D)世昌到宜蘭必須翻山越嶺穿越中央山脈

<答案> B

難易度：中

95. 婉婷想拍臺灣最主要的國際機場外觀，她應該前往何處，才能達到目的？ (A)屏東 (B)桃園 (C)臺中 (D)花蓮

<答案> B

難易度：中

96. 田尾村由早期稻作轉型為花卉種植專業區，後來又再度轉型成為有花卉研討教學、盆

栽設計體驗等五花八門的休閒農業，造成田尾兩次轉型的原因，下列哪些正確？(甲)交通與農業技術革新(乙)興建現代化穀倉(丙)加入WTO(丁)農地變更為工商及住宅用地 (A)甲、丁 (B)丙、丁 (C)乙、丁 (D)甲、丙

<答案> D

難易度：中

97. 偉文與家人到南部旅遊，在飽覽了南部的美麗風光後，想找一家餐廳品嚐美味的海鮮，順便欣賞「大船入港」。偉文與家人應該是來到臺灣的哪裡？ (A)臺南 (B)高雄 (C)基隆 (D)嘉義

<答案> B

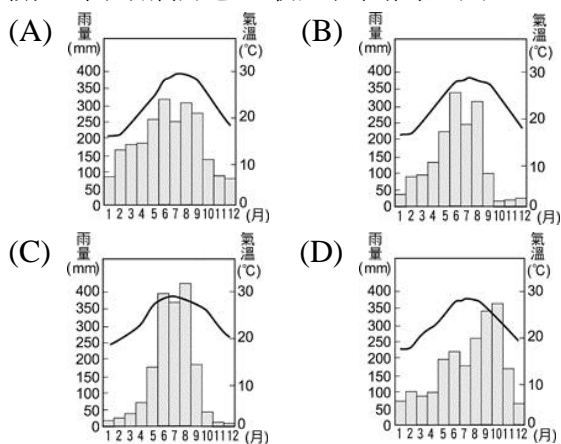
難易度：中

98. 宏一想要趁寒假安排戶外旅遊，那麼他最好選擇下列哪個城市，才不會讓雨水打壞了他出遊的興致？ (A)宜蘭 (B)基隆 (C)臺北 (D)臺南

<答案> D

難易度：中

99. 臺灣的鹽田分布和海岸性質及氣候條件有關，下列哪個地區最適合開闢鹽田？



<答案> C

<解析> (C)乾季時間較長

難易度：中

100. 若珊計畫在寒假時到金門國家公園旅遊。下列哪種景觀最有可能是若珊這次旅行會拍到的照片？ (A)戰地風光 (B)賽夏族文化 (C)大理石峽谷 (D)高山地形

<答案> A

難易度：中

101.有關臺灣四大區域的描述，下列何者正確？  
(A)北部區域的發展以臺北盆地為中心，是臺灣最大都會區 (B)八卦台地為中部區域人口最密集的地區 (C)南部區域夏乾冬雨的氣候，塑造出典型的鹽田及養殖漁業景觀 (D)東部區域緊鄰大西洋，原住民眾多，文化分歧為其特色

<答案> A

難易度：中

102.基隆比嘉義雨量還多的主要原因是下列何者？ (A)地勢較低 (B)迎冬季季風 (C)距海較近 (D)緯度較高

<答案> B



難易度：難

103.大金到雲林找同學玩，卻發現當地有一整區的屋舍都陷到地下，原本的二樓成了一樓，這是因為哪種產業發展過度所造成的地層下陷情形？ (A)精緻農業 (B)養殖漁業 (C)開闢鹽田 (D)休閒民宿

<答案> B



### ● 填充 ●

難易度：易

4.臺灣區域劃分為( )、中、( )、東四大區域以及金馬地區。

<答案> 北，南

難易度：易

5.臺灣( )部區域地處東北季風迎風面，( )季降水量多，呈現溼冷氣候。

<答案> 北，冬

難易度：易

6.臺中彰化大都會區以( )為核心，是( )部區域的高度發展地帶。

<答案> 臺中市，中

難易度：易

7.高雄由於高雄港的擴建，加上工業區、中鋼及中船等大型國營企業設立，成為( )工業重鎮。

<答案> 重

難易度：易

8.臺灣東部區域發展相對緩慢，因此保留了豐富的生態景觀及傳統( )文化風貌。朝向( )產業發展，具觀光潛力。

<答案> 原住民，休閒遊憩

難易度：易

9.( )大都會區：是全臺最大的都會區，臺北市的人口數居全國之冠，為臺灣的( )、( )及( )中心。

<答案> 臺北基隆，政治，經濟，文化

難易度：易

10.臺灣中部區域的雲林( )基礎工業區，為全國最大的( )工業區。

<答案> 離島式，石化

難易度：易

11.臺南( )豐富，文化薈萃，正朝向( )都市發展。南部科學工業園區的設立有助於( )產業的發展。

<答案> 歷史資產，觀光，高科技

難易度：易

12.臺灣的東部區域東有( )山脈，西隔( )山脈，地理形勢封閉，( )平原是其主要發展地帶。

<答案> 海岸，中央，花東縱谷

難易度：易

13.小三通使( )地區成為臺灣與對岸交通的重要管道。

<答案> 金馬

難易度：易

14.( )市是北部區域的核心、更是政治、( )、( )中樞，吸引國內外企業在此設立總部，帶動中小型企業往此地集中，工商業鼎盛。( )科學工業園區為高科技產業的發展火車頭。

<答案> 臺北，經濟，文化，新竹

難易度：易

15.南部區域的兩大發展核心為( )市及




( )市。

<答案> 高雄，臺南

難易度：易

16.南部區域的沿海地帶多沙洲與( )，現多開闢成魚塭，( )漁業興盛。

<答案> 潟湖，養殖



◎ 題組 ◎

難易度：易

17.附圖為臺灣四大區域分區圖。請問：



(1)梁小樂在某地工作打拚了十年，但無奈該地區房價過高，始終都還是個無殼蝸牛(即沒有房子的人)。梁小樂最有可能住在哪個地區？ (A)甲 (B)乙 (C)丙 (D)丁

(2)慕澄為旅行社設計了四個臺灣旅遊的套裝行程，下列何者是不可行的？ (A)甲——谷灣式海岸風光 (B)乙——玄武岩景觀 (C)丙——鹽山、鹽田參訪 (D)丁——峽谷風光

(3)「地形的阻隔使得我們的家鄉發展較其他區域落後，人口外流的情形也較嚴重……，但也因此保存了美麗的自然景觀……」以上最能是對於哪個區域的描述？ (A)甲 (B)乙 (C)丙 (D)丁

<答案> (1)A；(2)B；(3)D。

<解析>(B)玄武岩景觀位於澎湖，隸屬於南部區域

難易度：易

18.地處副熱帶的臺灣，屬於海島型氣候，年平均水量約 2,510 毫米，是世界平均值的 2.5 倍，堪稱雨量豐沛。但因降雨之時空分布不均，各地區均有差異。請問：

(1)下列哪個都市的冬季降雨最明顯？ (A)臺北 (B)臺中 (C)高雄 (D)臺東

(2)這個都市的冬季多雨的原因為何？ (A)位於東北季風迎風處 (B)地勢較高 (C)位於北回歸線以南 (D)黑潮帶來旺盛水氣

(3)下列何者不是造成臺灣雨量集中於夏季的主要原因？ (A)對流旺盛，易產生雷陣雨 (B)易受颱風侵襲，帶來豐沛雨量 (C)西南季風帶來暖溼氣流 (D)黑潮流經，水氣充足

<答案> (1)A；(2)A；(3)D。

<解析> (1)北部全年有雨；南部夏雨冬乾

難易度：易

19.臺灣各地區都有自己的特色，我們可以依這些特色，大致將臺灣分為東、中、南、北四大區域。請問：

(1)這四大區域大致以下列何者做為劃分的依據？ (A)氣候、地形 (B)經濟、文化 (C)資源條件、發展程度 (D)人口、產業

(2)臺灣主要的人口和產業活動大致都聚集在哪兩個區域之中？ (A)南部、北部 (B)東部、北部 (C)中部、南部 (D)北部、中部

(3)九二一大地震是臺灣近百年來發生最嚴重的地震，受創嚴重的集集在工作團隊的努力下，漸漸走出陰霾，也因為人人的努力，臺灣社會才能展現出更多元的面貌。集集是位於哪個區域的鄉鎮？ (A)北部 (B)中部 (C)南部 (D)東部

<答案> (1)C；(2)A；(3)B。

難易度：易

20.臺灣各區域在不斷的發展下，逐漸產生各自的特色，我們可以依這些特色，大致將臺灣分為四大區域，如附圖。請問：



(1)四大區域是以下列何者為基準劃定的？ (A)氣候、地形 (B)人口組成、文化 (C)產業結構、交通 (D)自然條件、人文環境

(2)臺灣四大區域各有特色，下列敘述何者正確？ (A)甲區域是臺灣的穀倉 (B)乙區域原住民眾多，文化分歧 (C)丙區域都會區的地形以平原為主體 (D)丁區域有典型的鹽田、養殖漁業景觀

(3)四個區域中，哪個區域的產業發展程度高，工商業聚集，居民所得收入高於其他區域？ (A)甲 (B)乙 (C)丙 (D)丁

<答案> (1)D；(2)C；(3)A。

難易度：中

21.臺灣大致上分為北、中、南、東四大區域，各區域都有其特色。請問：

(1)都會區係指在同一區域內，由一個或一個以上之中心都市為核心，連結與此中心都市在

社會、經濟上合為一體之市、鎮、鄉所共同組成之地區，因此都會區可說是一個地區的精華地帶。臺灣最大的都會區以哪個縣市為核心？ (A)宜蘭縣 (B)基隆市 (C)桃園縣 (D)臺北市

- (2)在苗栗地區的客家聚落，隨處可見以客家文化做為主題的特色商店，苗栗是位於哪個區域？ (A)北部區域 (B)中部區域 (C)南部區域 (D)東部區域

<答案> (1)D；(2)B。

難易度：中

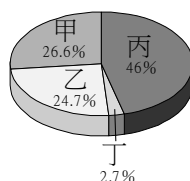
22.臺北無雙和宜蘭好友佳佳雖然相隔不遠，但兩地交通受阻於自然屏障而無法充分聯繫，直到近年來某條交通路線的開通，才使這樣的情形有所改善。請問：

- (1)文中所謂的「自然屏障」是指下列何者？ (A)新店溪 (B)中央山脈 (C)大屯火山群 (D)雪山山脈
- (2)文中所指的交通路線應該是下列何者？ (A)蔣渭水高速公路 (B)中山高速公路 (C)福爾摩沙高速公路 (D)水沙連高速公路

<答案> (1)D；(2)A。

難易度：中

23.附圖為臺灣四大區域的工廠及商店分布圖，請問：



- (1)若依甲、乙、丙、丁的順序排列，則四大區域的正確順序為何？ (A)北部→中部→南部→東部 (B)中部→南部→北部→東部 (C)北部→南部→中部→東部 (D)南部→中部→北部→東部
- (2)區域差異的現象日益擴大，臺灣北部區域的擴展速度最快，與下列哪項條件的關係最密切？ (A)各項服務較完善，吸引工廠及商店集中 (B)農礦資源較豐富，促使工廠及商店集中 (C)開發最早古蹟多，吸引大量觀光客 (D)土地肥沃平原廣，吸引農村人口進入
- (3)臺灣東部區域的面積與其他區域相差不大，但工廠及商店的分布與其他區域相差懸殊。最主要是由於下列哪項原因？ (A)時常有颱風、地震 (B)民風純樸過於保守 (C)交通不便，發展緩慢 (D)族系繁雜，原主文化的限制

<答案> (1)D；(2)A；(3)C。

難易度：中

24.小婷一家人利用暑假期間，騎單車遨遊臺灣西半部，足跡遍及西部各縣市。請回答下列問題。

- (1)小婷的出發地是臺灣第一大都市，也是全臺商業與服務業的集中地。這座都市是位於哪種地形區中？ (A)台地 (B)盆地 (C)山地 (D)丘陵
- (2)小婷一家人行經北部縣市的某處，看到了一個個由人工挖掘，用來儲水的池子，在陽光下就像一面面的鏡子。請問：小婷一家人應該是行經哪個縣市？ (A)基隆市 (B)新竹市 (C)桃園縣 (D)新竹縣
- (3)從彰化平原至嘉南平原的旅途中，小婷經過了許多鄉村，她在這些地區見到的鄉村聚落應該是以哪種型態為主？ (A)集村 (B)散村
- (4)小婷在某日的旅遊札記上寫下這樣的一段話：「此地發展歷史悠久，曾為全臺首府，目前境內的古蹟密度高居各縣市之冠。」小婷當天可能是到了下列哪個縣市？ (A)彰化縣 (B)嘉義市 (C)臺南市 (D)屏東縣
- (5)小婷經過的縣市中，雲林縣和嘉義縣的都市化程度明顯較低，其原因可能為下列哪項說明？ (A)兩縣的性別比較小 (B)兩縣的人口總數較大 (C)兩縣的老年人口比例較低 (D)兩縣的農業就業人口比例較高

<答案> (1)B；(2)C；(3)A；(4)C；(5)D。

難易度：中

25.我國政府開放中國人民來臺旅遊，通過申請的陳小紅，利用一星期的時間遊覽臺灣。雖然時間有限，但美麗的風光與進步的建設，都讓她留下深刻的印象。請問：

- (1)陳小紅搭乘直航的班機來臺，當飛機抵達臺灣時，最有可能是降落在下列哪個縣市？ (A)基隆市 (B)臺南市 (C)桃園縣 (D)花蓮縣
- (2)陳小紅在下列哪個縣市境內，無法到海濱欣賞美景？ (A)宜蘭縣 (B)臺中市 (C)屏東縣 (D)南投縣
- (3)參觀完臺北市的 101 大樓後，意猶未盡的陳小紅還想一覽高雄市澄清湖的風光，若想要

當天往返，你會建議他選擇下列哪種交通工具最為快捷？ (A)火車 (B)捷運 (C)遊覽車 (D)高速鐵路

(4)陳小紅從臺北市南下到高雄市的途中，將會經過下列哪些縣市？(複選) (A)基隆市 (B)臺中市 (C)臺南市 (D)屏東縣

<答案> (1)C；(2)D；(3)D；(4)BC。

難易度：難

26.「以前我年輕的時候，一塊田地都分成好幾等分，一小塊種稻米、一小塊種番薯、一小塊種花，種了各式各樣的作物；現在我的田一整塊都只有種花，而且假日的時候我還開放部分花田給遊客來採花、拍照，體驗農村的樂趣，也是另一筆的收入。」這是住在彰化的阿土伯對於自己耕田經驗的敘述。請問：

(1)阿土伯土地利用的改變跟哪種因素關係最大？ (A)氣候變遷 (B)交通革新 (C)農地重劃 (D)地殼變動

(2)阿土伯開放花田給遊客來採花，是屬於哪種產業活動？ (A)精緻農業 (B)粗放農業 (C)酪農業 (D)休閒農業

<答案> (1)B；(2)D。

### 6-3 臺灣的區域發展差異



單選

難易度：易

1.臺灣北、中、南、東四個區域，不論人口分布、經濟發展、教育程度都呈現不均衡的情形，這和下列哪項因素關係最為密切？ (A)氣溫與降水量的差異 (B)地形差異與工商業的發展過程 (C)環境品質優劣不同 (D)成人識字率與教育程度差異

<答案> B

難易度：易

2.有關臺灣四個區域發展的敘述，何者正確？ (A)北部區域第三級產業就業人口比例最高 (B)中部區域第一級產業就業人口比例低於北部區域 (C)東部區域人口增加率較南部區域高 (D)金馬地區目前以第一級產業為發展重點

<答案> A

<解析> (B)中部區域第一級產業就業人口比例高

於北部區域；(C)東部區域人口增加率為所有區域中最低；(D)金馬地區以觀光業(第三級產業)為發展重點

難易度：易

3.臺灣東部、西部、南部、北部四大區域中，以哪區域的河川水質所受的汙染最低？ (A)東部區域 (B)西部區域 (C)南部區域 (D)北部區域

<答案> A

難易度：易

4.長久以來東部區域的工商業發展總是不如其他區域，這是因為受到哪種環境條件限制影響？ (A)對外交通不便 (B)氣候條件惡劣 (C)政府計畫性打壓 (D)居民排斥工商業

<答案> A

難易度：易

5.東部區域的原住民多於其他區域是其特色。造成東部區域原住民人數多於其他區域的原因為何？ (A)早期原住民即以此處為大本營 (B)海陸交通不便使漢人入墾時間甚晚 (C)東部的自然環境適宜原住民的維生活動 (D)國民政府劃定東部為原住民保留區

<答案> B

難易度：易

6.臺灣人口分布不均，明顯集中於西半部，下列哪項因素不是影響臺灣人口分布的主要原因？ (A)氣候 (B)交通 (C)產業活動 (D)地形

<答案> A

難易度：易

7.「我要去臺北打拚，聽說所有好康的攏在那…」這是在民國八十年代紅透半邊天的一首歌。當初讓鄉下青年遷移到臺北最主要的是下列哪種拉力？ (A)臺北土地肥沃 (B)臺北氣候舒適 (C)臺北經濟發達 (D)臺北人民善良

<答案> C

難易度：易

8.臺灣北部區域為人口大量移入的地區，其最主要的原因是什麼？ (A)北部區域就業機會



多平均所得高 (B)中央政府位於北部區域 (C)北部區域自然環境優於其他區域 (D)北部區域農林漁牧業均發達

<答案> A

難易度：易

9.臺灣北部、中部兩區域的競爭力雖強，但也因而導致經濟發展失衡，在下列哪方面的條件反而比不上東部區域？ (A)醫療教育水準 (B)生活環境品質 (C)交通建設 (D)人口數

<答案> B

難易度：易

10.澎湖縣因勞動力有老化現象，使傳統漁業逐漸衰微。澎湖地區勞動力老化，主要是受下列哪項因素的影響？ (A)出生率降低 (B)死亡率降低 (C)人口分布不均 (D)人口大量外流

<答案> D



難易度：中

11.政府「產業東移」政策未見成效，主因是東部哪種環境的影響？ (A)交通不便 (B)礦產不豐 (C)氣候溼熱 (D)平原狹小

<答案> A

難易度：中

12.每年的清明節、中秋節、農曆新年等節日時，臺灣國內航線機場都湧進大量的返鄉人潮。「假期結束」時，下列哪個航線最有可能出現一票難求的現象？ (A)臺北→花蓮 (B)臺中→桃園 (C)臺東→臺北 (D)高雄→臺南

<答案> C



難易度：中

13.附表為經建會於民國九十年，對甲、乙、丙、丁四縣市所做的生活水準比較統計表。哪個縣市最有可能是位於臺灣的東部區域？ (A)甲 (B)乙 (C)丙 (D)丁

縣市名稱	平均每戶經常性收入(元)	冷、暖氣普及率(%)	汽車持有率(輛/千人)	農業就業人口(%)
甲	1,195,049	67.27	302.4	37.8
乙	1,489,749	88.37	251.0	99.5
丙	955,003	68.23	213.7	75.6
丁	729,052	42.00	203.5	72.3

<答案> D

難易度：中

14.東部區域為全臺人口密度最小的區域，且人口增加率由4%滑落至2%，影響當地的區域發展情況。造成東部區域人口增加率下降的主要因素為下列何者？ (A)家庭計畫推廣，出生率下降 (B)觀光旅遊盛行，居民外移多 (C)醫療衛生落後，死亡率較高 (D)經濟發展較慢，移出率甚高

<答案> D

難易度：中

15.附表為某年臺灣區域發展經濟指標的區域差異。由表判斷可知下列哪項意義？ (A)區域間發展並不均衡 (B)東部地區的生活品質最高 (C)北部區域多數的指標皆較其他區域差 (D)臺灣的產業結構不斷的轉變

區域	公用事業		公共衛生		教育文化	
	自來水普及率(%)	平均每人每年用電量(度)	每萬人西醫數(人)	15歲以上民間人口教育程度在高中以上者(%)	每千人書報雜誌份數(份)	每千人彩色電視機數量(臺)
北部	95.2	2,409	15.0	63.8	220.1	480.9
中部	87.2	2,047	11.9	53.0	154.1	394.1
南部	87.5	2,004	13.3	55.7	155.4	420.6
東部	78.7	1,786	13.7	43.8	152.5	414.1
合計	90.5		13.7	58.2	183.6	439.8

<答案> A

難易度：中

16.相對於東部臺灣，西部臺灣呈現出交通便捷、產業發達，並且人口集中居住的情景，造成此情景最主要的原因為何？ (A)開發較早 (B)自然景觀優美 (C)當地氣候良好 (D)水源充足

<答案> A

難易度：中

17.根據行政院資料顯示，臺北市地區的家庭平均年所得約為160萬元，遠較雲林縣約80萬元為佳。造成這兩個地區年收入高低不同，最主要的原因為何？ (A)產業發展 (B)土地面積 (C)礦藏分布 (D)人口密度

<答案> A

難易度：中

18.關於臺灣四大區域的差異，下列敘述何者正確？ (A)南部區域有特殊的「珊瑚礁地形」 (B)東部區域為臺灣人口密度最高的區域 (C)中部區域有臺灣最大的都會區 (D)臺北都會區的地形以平原為主體

<答案> A

<解析>(B)北部；(C)北部；(D)盆地

難易度：中

19.附表為某年臺灣區域發展指標的區域差異，由表中可看出下列哪項意義？(A)臺灣的產業結構不斷轉變 (B)東部區域生活機能最方便 (C)區域間發展不均衡 (D)北部區域的多項指標皆較其他區域差

區域	公用事業		公共衛生	教育文化		
	自來水普及率(%)	平均每人每年用電量(度)	每萬人西醫數(人)	15歲以上民間人口教育程度在高中以上者(%)	每千人書報雜誌份數(份)	每千人彩色電視機數量(臺)
北部	95.2	2,409	15.0	63.8	220.1	480.9
中部	87.2	2,047	11.9	53.0	154.1	394.1
南部	87.5	2,004	13.3	55.7	155.4	420.6
東部	78.7	1,786	13.7	43.8	152.5	414.1
合計	90.5	-	13.7	58.2	183.6	439.8

<答案> C

難易度：難

20.對於臺灣區域發展差異的描述，下列何者為非？(A)人口密度以北部區域最高 (B)科技產業以北部區域最發達 (C)南部區域的第一級產業比例為各區域之冠 (D)北部區域的平均家庭所得高於其他區域



<答案> C

<解析>(C)東部區域

## 6-4 臺灣的國土規劃



單選

難易度：易

1.下列哪項計畫，具有使臺灣北、中、南、東四區域均衡發展的功能？(A)各地興建核能發電廠與火力發電廠 (B)依資源條件及發展程度規劃發展策略 (C)建立臺北都會區輕軌鐵路交通網 (D)設立國家公園及自然保留區

<答案> B

難易度：易

2.離島的金門馬祖地區首要推動的項目應為下列何者？(A)發展地方產業，改善基礎建設，保護當地生態文化 (B)發展重工業，提振整體經濟 (C)設立賭場吸引觀光客，以澳門為範本發展 (D)開放中國人民進入，從事商業性活動

<答案> A

難易度：易

3.政府國土規劃主要目的在於解決哪項問題？(A)交通建設落後 (B)礦產資源缺乏 (C)區域發展不均衡 (D)水資源供應不足

<答案> C

難易度：易

4.臺灣各項經濟建設，哪項最具有使北、中、南、東四大區域均衡發展功能？(A)興建臺灣西部高速鐵路 (B)建立環島鐵路系統 (C)興建核能發電廠 (D)興建高雄都會區大眾捷運系統

<答案> B

難易度：易

5.臺灣區域計畫依區域發展現況與自然條件差異，分為四大軸帶，其中西部成長管理軸又分為三大城市區域，對於臺灣區域計畫的敘述，下列何者錯誤？(A)三大城市區域主要在促進西部地區的整體發展 (B)北臺城市區域是以國際性港都、兼有文化與海洋特色的雙核心都會為發展目標 (C)中央山脈保育軸定位為原住民文化與生態保育廊帶 (D)東部策略發展軸定位為太平洋西岸的優質生活產業帶

<答案> B

<解析>(B)南臺城市區域

難易度：易

6.為了縮短臺灣區域內部的發展差距，臺灣制定了「國土綜合開發計畫」希望藉此均衡各區發展，但下列何者並非此計畫強調的重點？(A)生態 (B)生活 (C)生產 (D)生育

<答案> D

難易度：易

7.臺灣的區域經濟發展差距極大，因此近年來政府陸續興建多條交通路線以期能縮短區域間的差距。臺灣高鐵通車後，對於平衡哪個區域的發展幫助並不大？(A)東部區域 (B)北部區域 (C)中部區域 (D)南部區域

<答案> A

難易度：易

8.臺灣高鐵已開始營運，大幅縮減臺灣本島內

陸交通往來的時間。以上對臺灣高鐵敘述，不適用哪個區域？ (A)北部區域 (B)中部區域 (C)東部區域 (D)南部區域

<答案> C

難易度：易

9.要溝通南部區域及東部區域，可以利用哪條交通線？ (A)中部橫貫公路 (B)南迴鐵路 (C)中山高速公路 (D)高速鐵路

<答案> B

難易度：易

10.政府推動「國土綜合開發計畫」，是為了避免什麼情況發生，區域間失去平衡？ (A)空氣污染 (B)垃圾不分類 (C)城鄉差距擴大 (D)自然資源遭破壞

<答案> C

難易度：易

11.臺灣高鐵開通大幅縮短交通往來的時間，並使臺灣邁入一日生活圈，尤其是沿線經過的都市、鄰近觀光景點，也因此而受到良好的再成長機會，但是下列哪個區域卻無法受惠？ (A)北部區域 (B)中部區域 (C)金馬地區 (D)南部區域

<答案> C

難易度：易

12.在臺灣區域發展的過程中，由於各地的經濟發展基礎與資源條件不一，導致區域之間及內部發展不均衡的現象。下列各項問題中，何者並非「金馬地區」生活條件較其他區域差的因素？ (A)人口密度最低 (B)公共設施較少 (C)交通聯繫度低 (D)醫療設施較落後

<答案> A

<解析> (A)人口密度較低，則生活空間較為寬廣，互相干擾的程度較低，生活品質較高

