

2-1 臺灣的產業結構

單選

難易度：易

1.地理課時，陳老師提到師母也是從事同一級的產業活動。由此可知，師母不可能從事下列哪種工作？ (A)玩具工廠員工 (B)腸胃科門診醫師 (C)百貨公司專櫃小姐 (D)旅行社導遊

<答案> A

<解析> 老師屬於第三級產業，而玩具工廠屬於第二級產業

難易度：易

2.小巢的爸爸是位房屋仲介員。依產業活動分類，小巢要在父親的職業欄中，填上哪個類別才正確？ (A)農業 (B)工業 (C)服務業 (D)建築營造業

<答案> C

難易度：易

3.下列職業：(甲)養鴨人家(乙)護士(丙)製造業者(丁)老師(戊)計程車司機，有幾項屬於第三級產業活動？ (A)二項 (B)三項 (C)四項 (D)五項

<答案> B

<解析> 共有(乙)(丁)(戊)三項屬於第三級產業活動；(甲)屬於第一級產業；(丙)屬於第二級產業

難易度：易

4.小倩的工作是醫生，她在填寫個人資料中的職業欄時，應勾選哪項產業類型？ (A)商業 (B)工業 (C)漁業 (D)服務業

<答案> D

難易度：易

5.臺灣目前有很多大都市，如臺北、高雄、臺中等，這些都市的就業人口大多從事提供商品或勞務的經濟活動，屬於第幾級產業活動？ (A)第一級產業 (B)第二級產業 (C)第三級產業 (D)第四級產業

<答案> C

難易度：易

6.近來網路出現一種新興的經濟型態——跑腿幫，以幫人買東西、送東西等幫人跑腿服務來賺錢。這種經濟型態屬於哪種產業？ (A)第一級產業 (B)第二級產業 (C)第三級產業 (D)無法歸類

<答案> C

難易度：易

7.靖倫的爸爸靠種芒果養家活口。靖倫的爸爸所從事的工作是屬於哪種產業活動？ (A)第一級產業 (B)第二級產業 (C)第三級產業 (D)無法歸類

<答案> A

難易度：易

8.裕文在銀行擔任信用卡專員。裕文所從事的屬於哪種產業？ (A)第一級產業 (B)第二級產業 (C)第三級產業 (D)無法歸類

<答案> C

難易度：易

9.臺灣南部可見鋼鐵工業區聚集，這種工業型態是屬於下列哪種產業？ (A)第一級產業 (B)第二級產業 (C)第三級產業 (D)無法歸類

<答案> B

難易度：易

10.定緯立志將來要當心理醫生。醫生是屬於哪種產業活動？ (A)第一級產業 (B)第二級產業 (C)第三級產業 (D)無法歸類

<答案> C

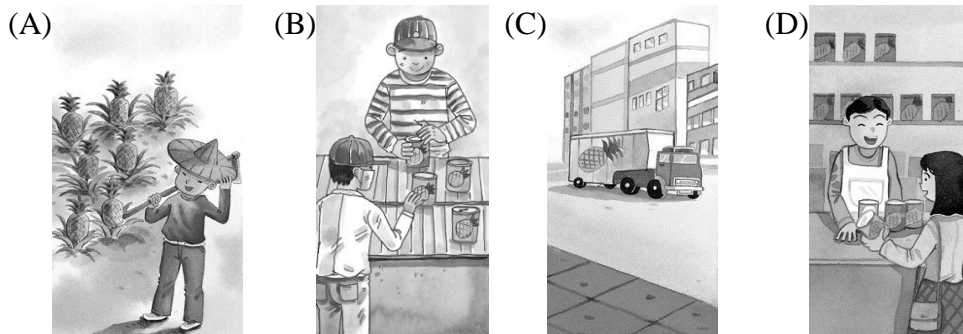
難易度：易

11.仁杰的爺爺住在嘉義，長年種植鳳梨，每年都有不錯的收成；住雲林的叔叔在鳳梨罐頭加工廠工作；住臺中的表哥從事餐飲業，常常都會跟仁杰的爺爺購買鳳梨來做料理。若以產業型態來分，下列何者正確？ (A)爺爺 — 第一級產業，叔叔 — 第二級產業，表哥 — 第三級產業 (B)叔叔 — 第一級產業，爺爺 — 第二級產業，表哥 — 第三級產業 (C)表哥 — 第一級產業，爺爺 — 第二級產業，叔叔 — 第三級產業 (D)爺爺 — 第一級產業，表哥 — 第二級產業，叔叔 — 第三級產業

<答案> A

難易度：易

12.下列四圖中，哪張可以說明第二級產業活動？



<答案> B

難易度：易

13.產業活動分為三級，關於各產業活動的敘述，下列何者正確？ (A)第一級產業只包括農業 (B)第二級產業是取自於自然或培育利用者 (C)第三級產業即服務業 (D)服務業包括：金融、運輸、貿易、營造業等

<答案> C

<解析> (D)營造屬第二級產業

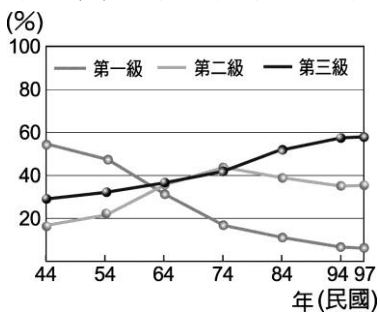
難易度：易

14.下列生產活動：(甲)農夫收割稻穀(乙)量販店販售仙貝(丙)食品廠將稻米製成仙貝。如果依照第一級、第二級、第三級產業的順序排列，則下列哪個組合是正確的？ (A)甲乙丙 (B)丙乙甲 (C)乙丙甲 (D)甲丙乙

<答案> D

難易度：易

15.附圖為臺灣各級產業就業人口變遷圖。目前就業人口比例高低依序為何？ (A)農業、工業、商業 (B)工業、農業、商業 (C)商業、工業、農業 (D)商業、農業、工業



<答案> C

難易度：易

16.臺灣的產業結構，由第一級產業轉為第二、三級產業的主要原因是什麼？ (A)人口增加 (B)土地改革 (C)交通發展 (D)經濟發展

<答案> D

難易度：易

17.下列何者最能夠顯示三級產業的結構？ (A)產業分工 (B)產品加值 (C)就業人口比例 (D)產業分級

<答案> C

難易度：易

18.隨著國民所得提高，臺灣現今以哪種產業為經濟主體？ (A)農業 (B)工業 (C)商業 (D)林業

<答案> C

難易度：易

19.附表是富裕國的各級產業結構比例，富裕國主要發展的產業，可能是下列哪種產業？ (A)捕魚業 (B)成衣加工業 (C)土石採礦業 (D)百貨批發業

產業	第一級產業	第二級產業	第三級產業
比例	13.5%	27.8%	58.7%

<答案> D

難易度：易

20.小桔班上做了父母親職業調查，統計出的結果為附表，小桔班上同學的父母親大多從事哪種行業？ (A)養雞業 (B)乳品加工業 (C)成衣製造業 (D)金融保險業

產業	第一級產業	第二級產業	第三級產業
比例	66.3%	18.1%	15.6%

<答案> A

難易度：易

21.政府商請銀行開辦低利率就學貸款，協助低收入家庭子女就學。承辦貸款的人員，屬於哪種產業類型？ (A)第一級產業 (B)第二級產業 (C)第三級產業 (D)無法歸類

<答案> C

難易度：易

22.產業結構一般可分三級，下列四圖中，哪種行業屬於第二級產業？

(A) (B) (C) (D)



<答案> D

<解析> (A)(B)是第三級產業；(C)是第一級產業

難易度：易

23.一般產業結構可分為三級，若某地區的經濟活動有：(甲)工業(乙)農業(丙)美容業(丁)運輸業(戊)商業(己)漁、林、牧業。上述有幾項是屬於第一級產業？ (A)一項 (B)兩項 (C)三項 (D)四項

<答案> B

<解析> (乙)(己)屬於第一級產業；(甲)屬於第二級產業；(丙)(丁)(戊)屬於第三級產業

難易度：易

24.在各種產業中，直接取自天然資源或將天然資源加以生產利用者，歸類為下列哪種產業？ (A)第一級產業 (B)第二級產業 (C)第三級產業 (D)無法歸類

<答案> A

難易度：易

25.利用各種原料進行加工與製造成產品的活動，即是下列哪種產業？ (A)農業 (B)工業 (C)商業 (D)服務業

<答案> B

難易度：易

26.各種產業中，提供貨物或買賣或勞務服務等經濟活動的是哪種產業？ (A)第一級產業 (B)第二級產業 (C)第三級產業 (D)無法歸類

<答案> C

難易度：易

27.(甲)林業(乙)營造業(丙)金融(丁)保險(戊)製造業。上述屬於第二級產業的有哪些行業？ (A)甲、丙 (B)乙、丙 (C)乙、戊 (D)丙、丁

<答案> C

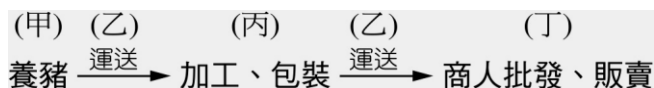
難易度：易

28.依據調查，臺灣哪種行業類別的比例最高？ (A)農業 (B)工業 (C)服務業 (D)漁業

<答案> C

難易度：中

29.附圖為肉鬆從製造到行銷的各個階段，甲、乙、丙、丁哪個階段屬於第二級產業？ (A)甲 (B)乙 (C)丙 (D)丁



<答案> C

難易度：中

30.附表為甲國的三級產業比例表，由表可知甲國的產業特色為下列何者？ (A)甲國屬於已開發國家 (B)服務業的比例最高 (C)加工製造業發達 (D)農牧業發達

產業	比例
第一級產業	82.8%
第二級產業	10%
第三級產業	7.2%

<答案> D

難易度：中

31.工業會使得生活型態有大幅改變。下列何者不是工業對生活型態所造成的影響？ (A)人口集中在都市 (B)鄉村勞動力人口減少 (C)第二級產業活動比例上升 (D)平均年齡上升

<答案> D

難易度：中

32.小京老師調查班上同學家長的職業類別，發現三級產業的人口比例如下：從事第一級產業占 2%、從事第二級產業占 20%、從事第三級產業占 78%。安安老師最有可能任教於下列哪個縣市？
(A)臺北市 (B)嘉義縣 (C)嘉義市 (D)臺東縣

<答案> A

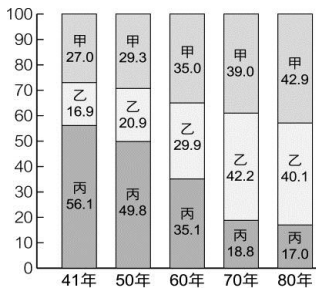
難易度：中

33.王建銘家人的就業情況如下：阿公(種田)、小阿姨(國小老師)、爸爸(麵包店老闆)、媽媽(記者)、叔叔(鐵工廠工人)。王建銘家裡從事第一、第二、第三級產業的人口各有多少？ (A)兩人、兩人、一人 (B)一人、一人、三人 (C)兩人、無、三人 (D)一人、兩人、兩人

<答案> B

難易度：中

34.附圖為臺灣產業結構變遷圖，其中「丙」為第幾級產業？ (A)第一級產業 (B)第二級產業 (C)第三級產業 (D)無法歸類



<答案> A

難易度：難

35.要觀察一地產業結構的轉變，除了參考該地產值比例高低之外，也可以利用下列哪種比例變化曲線圖來判斷？ (A)工作對象 (B)原料輸入 (C)就業人口 (D)產品輸出

<答案> C

● 填充 ●

難易度：易

36.第一級產業：直接利用()的生產活動，如農業、()業、牧業、()業等，廣義上統稱為()。

<答案> 自然資源，漁，林，農業

難易度：易

37.第二級產業：利用各種原料從事加工()的活動，一般稱為()，如礦業及土石採取業、水電燃氣業等。

<答案> 製造，工業

難易度：易

38.第三級產業：提供（ ）或（ ）的經濟活動，如批發、零售、保險、貿易等，統稱為（ ）。

<答案> 商品，勞務，服務業

難易度：易

39.產業活動是人們利用（ ），從事（ ）或提供（ ）的一種活動。

<答案> 資源，生產，勞務

題組

難易度：易

40.附表為臺灣四個縣市的人口產業結構。請問：

	甲	乙	丙	丁
農 業	2.4	4.7	15.1	34.1
工 業	22.7	56.1	46.3	31.4
服務業	74.9	39.2	38.6	34.5

(1)由表中產業結構的數值判斷，哪個縣市最可能是臺北市？ (A)甲 (B)乙 (C)丙 (D)丁

(2)哪個縣市的人口最能享受田園之樂，但人口外移情形最嚴重？ (A)甲 (B)乙 (C)丙 (D)丁

<答案> (1)A；(2)D

<解析> (1)臺北市以第二、三級產業活動為主

難易度：中

41.位於臺北盆地北方，大屯山腳下的北投，因後火山作用而產硫磺。約三百年前，清代郁永河曾由福建來此招募凱達格蘭人採硫，留下先民活動的足跡。請問：

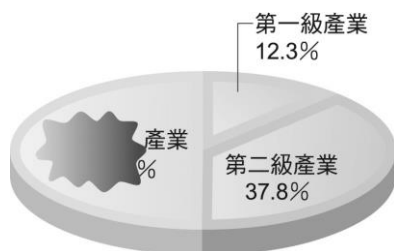
(1)光復後，有家「臺陽公司」在大屯山區的「大油坑」採硫並製成粗製硫磺以供內外銷，這是屬於哪種產業活動？ (A)第一級產業 (B)第二級產業 (C)第三級產業 (D)無法歸類

(2)日據時代，日本人在北投開設溫泉療養所，帶動北投溫泉的蓬勃發展。今日更以新的休閒設施吸引遊客前來泡湯。現在的北投溫泉產業屬於第幾級產業活動？ (A)第一級產業 (B)第二級產業 (C)第三級產業 (D)無法歸類

<答案> (1)B；(2)C

難易度：中

42.開學第一天，王老師調查班上同學家長職業類型，想將結果做成統計圖表，但他不小心把圖弄髒了，而表又尚未填完。聰明的你，請幫王老師將未完成的表格填入正確資料，並回答下列問題。



▲ 七年甲班家長職業類型圓餅圖

▼ 七年甲班家長職業類型比較表

產業類型	比例
第一級產業	12.3%
第二級產業	37.8%
第三級產業	_____%

- (1)班上同學的家長多從事第幾級產業？ (A)第一級產業 (B)第二級產業 (C)第三級產業
- (2)王小明父親的職業屬於第一級產業，最有可能是下列哪種職業？ (A)茶農 (B)麵包店師傅 (C)銀行保險員
- (3)陳小方媽媽的職業屬於第三級產業，最有可能是下列哪種職業？ (A)養雞農 (B)工廠工人 (C)麵攤經營者

<答案> (1)C；(2)A；(3)C

2-2 臺灣的第一級產業

單選

難易度：易

1.務農為生的茂伯有三個兒子，他們現在都到臺北工作，不願意從事農業，家中只有茂伯夫妻倆守著田地耕種。上述顯示臺灣農業經營的哪項特色？ (A)農業經營集約度高 (B)耕地狹小 (C)農業技術進步 (D)農村勞動力老化

<答案> D

難易度：易

2.在林鳳營牧場中，可以看到牛群被圍在柵欄裡生活，臺灣牧民採取此畜牧方式的主要原因為何？ (A)降水量太多 (B)工資昂貴 (C)土地有限 (D)技術限制

<答案> C

難易度：易

3.臺灣西南部沿海多沙洲、潟湖地形，當地居民利用此種地形，養殖牡蠣、石斑魚等水產販售，從中獲利。這是屬於哪種漁業類型？ (A)遠洋漁業 (B)近海漁業 (C)沿岸漁業 (D)養殖漁業

<答案> D

難易度：易

4.下列哪種作物多種植於臺灣的中、低海拔山坡地？ (A)甘藷 (B)甘蔗 (C)茶葉 (D)玉米

<答案> C

難易度：易

5.臺灣養殖漁業興盛，產品外銷全球，如有虱目魚、蝦、牡蠣、鰻魚等，這些養殖漁業大多分布於何地？ (A)東北角海岸 (B)東南部海岸 (C)西南部海岸 (D)西北部海岸

<答案> C

難易度：易

6.目前臺灣林業經營的政策是下列哪項？ (A)砍伐與植林平衡 (B)砍伐重於植林 (C)禁止砍伐，積極造林 (D)大量砍伐，賺取外匯

<答案> C

難易度：易

7.根據資料顯示，臺灣的農田面積日漸縮小，但農產量卻仍然增加，最主要原因是什麼？ (A)農民更辛勤的工作 (B)農業技術進步 (C)農村勞力年輕化 (D)氣候環境愈來愈好

<答案> B

難易度：易

8.「仔仔是一個小學三年級的學生，他和同學平常最喜歡吃的食物就是炸雞、薯條以及漢堡，對臺灣傳統的主食『米飯』完全不感興趣。」上述國民飲食習慣改變的現象，對臺灣農業造成的最大影響為何？ (A)稻米產量供過於求 (B)農民紛紛改種小麥 (C)稻米外銷量大增 (D)稻米價格上升

<答案> A

難易度：易

9.近年來臺灣從事農業的人口愈來愈少，其主要原因為何？ (A)人口減少 (B)人們飲食習慣改變 (C)經濟發展，產業結構轉變 (D)氣候改變

<答案> C

難易度：易

10.麥克是美國的一名農夫，麥克的農田非常大，但是農場只有三名員工，員工平日多以機械耕作，噴灑肥料也駕駛小飛機，麥克農田的耕作特色，下列何者正確？(甲)集約耕作(乙)粗放耕作(丙)單位面積產量高(丁)單位面積產量低 (A)甲、丙 (B)甲、丁 (C)乙、丙 (D)乙、丁

<答案> D

難易度：易

11.魯夫是海賊村裡的一名漁夫，平常出海一趟至少需要七、八個月才會回來，且每次都會帶回許多的舶來品，成了另類的舶來品進口商。魯夫最可能是從事哪種漁業？ (A)養殖漁業 (B)沿岸漁

業 (C)近海漁業 (D)遠洋漁業

<答案> D

難易度：易

12.由於哪種原因，臺灣出現「農無閒年，地無閒田」的現象？ (A)梯田廣布 (B)雨量集中 (C)地狹人稠 (D)城市發展緩慢

<答案> C

難易度：易

13.喜歡做日式料理的詹姆士，非常擅長鰻魚料理，臺灣的鰻魚最主要是哪種漁業類型所供應的漁貨？ (A)養殖漁業 (B)沿岸漁業 (C)近海漁業 (D)遠洋漁業

<答案> A

難易度：易

14.說起林鳳營鮮奶，大家都會想起「嗯……好香好濃的鮮奶，就像家裡養了一頭牛……」的廣告詞，林鳳營牧場標榜自己牛奶相當新鮮。其經營型態屬於哪種產業？ (A)養殖業 (B)旅遊業 (C)運輸業 (D)酪農業

<答案> D

難易度：易

15.臺灣適合發展農業活動的有利條件為何？ (A)氣候 (B)地形 (C)水文 (D)市場

<答案> A

<解析> (A)生長季長、雨量充沛

難易度：易

16.臺灣漁業發達的原因不包括下列哪項？ (A)寒暖流交會 (B)海岸線綿長 (C)大陸棚寬廣 (D)沿海平原面積大

<答案> D

難易度：易

17.下列哪種產業活動以飼養乳牛，提供鮮乳或乳製品為主？ (A)混合農業 (B)放牧業 (C)酪農業 (D)商業性農業

<答案> C

難易度：易

18.牛媽媽在臺東經營了一座牧場並畜養了一群乳牛，自製遠近馳名的奶油、新鮮牛奶。牛媽媽從事的是哪種行業？ (A)酪農業 (B)游牧 (C)圈牧 (D)放牧

<答案> A

難易度：易

19.臺灣養殖漁業興盛，漁業產品外銷全球，而這些養殖區大多位於何地？ (A)東北角海岸 (B)東南沿海 (C)西北沿海 (D)西南沿海

<答案> D

難易度：易

20.對於臺灣集約農業特徵的描述，下列各項何者正確？ (A)單位面積產量低 (B)收成量偏低 (C)投入大量資金及勞力 (D)耕地面積大

<答案> C


難易度：易

21.臺灣適宜農業發展的條件為何？ (A)人口密集、糧食需求大 (B)地形平坦、平原廣大 (C)氣候溫暖溼潤 (D)土壤肥沃

<答案> C

難易度：易

22.附圖為小瑩旅遊時所拍攝的當地農業景觀，對於圖中農業特色的敘述，下列何者有誤？ (A)屬集約農業 (B)地廣人稀 (C)單位面積生產量低 (D)多為單一農產品生產



<答案> A

難易度：易

23.小天后裘琳在演唱會開唱前夕，為了舒緩心中壓力，她特地到臺灣西南部海岸散心，旅途中將所見所聞寫下：「行經此地，放眼盡是魚塭，我穿行於魚塭間的小路，聽著水面上打水器砰然作響的聲音。」裘琳所描述的地區應是哪種漁業活動的型態？ (A)養殖漁業 (B)沿岸漁業 (C)近海漁業 (D)遠洋漁業

<答案> A

難易度：易

24.臺灣屬於集約式農業，關於集約特色的敘述，下列何者正確？ (A)勞力少 (B)資金少 (C)農無閒年 (D)總產量高

<答案> C

難易度：易

25.漁民在臺灣海峽捕撈烏魚的活動，應屬於下列哪種類型的漁業？ (A)養殖漁業 (B)淡水漁業

(C)遠洋漁業 (D)近海漁業

<答案> D

難易度：易

26.臺灣目前許多林場已改為森林遊樂區，其功用和當時大不相同。將林場改為森林遊樂區最主要的目的是下列哪項森林政策？ (A)遊客倍增計畫 (B)環島交通路線 (C)保育重於砍伐 (D)善用天然資源

<答案> C

難易度：易

27.臺灣現代化的畜牧方式主要為欄牧，採用此種畜牧方式的原因為何？ (A)工資昂貴 (B)技術限制 (C)土地狹小 (D)氣候乾燥

<答案> C

難易度：易

28.臺灣西南部漁業屬於下列哪種類型？(A)近海漁業 (B)遠洋漁業 (C)沿海漁業 (D)養殖漁業

<答案> D

難易度：易

29.臺灣諺語「農無閒年，地無閒田」，最能顯示臺灣農業上的哪種特色？ (A)技術先進 (B)農民勤儉耐勞 (C)經營集約度高 (D)經濟起飛帶動農業興起

<答案> C

難易度：易

30.依照臺灣的天候條件分析，臺灣最重要糧食作物為何？ (A)高粱 (B)小麥 (C)稻米 (D)小米

<答案> C

難易度：易

31.寒暖洋流交會的地區，水溫適中、浮游生物眾多，魚群聚集。黑鮪魚於每年 4-6 月隨哪股洋流向北洄游至臺灣周圍海域？ (A)黑潮 (B)紅潮 (C)親潮 (D)中國沿岸流

<答案> A

難易度：中

32.附表為粗放與集約農業比較表，其中哪項描述是正確的？ (A)每位農民平均耕地面積 (B)單位面積產量 (C)單位面積內資本投入量 (D)單位面積內勞力投入量

	粗放農業	集約農業
每位農民平均耕地面積	小	大
單位面積產量	較低	較高
單位面積內資本投入量	較高	較低
單位面積內勞力投入量	較高	較低

<答案> B

難易度：中

33.新聞快報：「臺灣籍漁船因在俄羅斯外海捕撈漁獲，遭到當地政府強制驅離……」這則新聞所敘述的漁船，從事的是哪種漁業？ (A)遠洋漁業 (B)近海漁業 (C)沿岸漁業 (D)養殖漁業

<答案> A

難易度：中

34.民國九十三年九月時，臺灣的漁船跑到俄羅斯附近的太平洋海域捕捉鮭魚，但卻因涉嫌入侵該國領域而遭該國戰鬥直升機追逐。該漁船最有可能從事何種漁業？ (A)養殖漁業 (B)沿岸漁業 (C)近海漁業 (D)遠洋漁業

<答案> D

難易度：中

35.臺灣可耕地有限，近年來因下列哪項因素，使每位農民擁有的耕地更為狹小？ (A)經濟的發展 (B)土壤的流失 (C)氣候的變化 (D)社會增加率的提高

<答案> A

難易度：中

36.新聞上有近千名農民走上街頭，抗議優酪乳廠商以「奶粉」假冒「鮮奶」製造優酪乳，影響他們的生計。這群農民賴以維生的產業活動是哪種？ (A)休閒農業 (B)放牧業 (C)游牧業 (D)酪農業

<答案> D

難易度：中

37.關於臺灣農、林、漁、牧四種產業的敘述，下列何者正確？ (A)四種產業中從事人口最多且產值最大的是畜牧業 (B)在環境保育及資源永續利用的觀念下，林木產業的發展受到政府的保護與限制 (C)我們食用的牡蠣、九孔、文蛤這類漁產，多半來自近海漁業 (D)因臺灣西南部有廣大平原，所以臺灣畜牧業多半為放牧活動

<答案> B

<解析> (A)農業；(C)養殖漁業；(D)欄牧

難易度：中

38.俗諺能反應一地居民的生活型態與特色，如閩南語俗諺說：「甘蔗無雙頭甜。」這句話最有可能反應哪個地區居民的日常生活，因多接觸甘蔗而感受特別深刻？ (A)澎湖群島沿海 (B)阿里山山區 (C)嘉南平原地帶 (D)臺北盆地周圍

<答案> C

難易度：中

39.臺灣被稱為寶島，物產豐饒，如梨山蜜蘋果、大湖草莓、初鹿牧場、嘉南平原稻作等，下列哪項因素與各地物產不同的關係最密切？(A)市場需求 (B)政策考量 (C)地勢高低 (D)土壤性質

<答案> C

難易度：中

40.目前臺灣的畜牧發展狀況為何？(A)許多牧場發展酪農業，供應市場需求 (B)畜牧業仍為農家副業 (C)農家資金少，小規模經營以降低風險 (D)一戶人家飼養多樣牲畜以自給自足

<答案> A

難易度：中

41.漁民利用池塘、沿海潟湖、潮間帶從事水產養殖。臺灣養殖漁業分布最密集的地區是下列何處？(A)東部斷層海岸 (B)西部沙質海岸 (C)南部珊瑚礁海岸 (D)北部岬灣海岸

<答案> B

難易度：中

42.附圖最可能是臺灣哪種作物的分布圖？(A)甘蔗 (B)稻米 (C)茶樹 (D)小麥

<答案> B



難易度：中

43.臺灣目前稻米供應量已超過市場需求，造成這個現象的原因有：(甲)稻米種植面積增加(乙)農業技術進步(丙)人們飲食習慣改變(丁)有更多的勞力投入農業。上述哪些正確？(A)甲乙 (B)乙丙 (C)甲丙 (D)丙丁

<答案> B

難易度：中

44.臺灣農家早期有句諺語：「嫁給做田疇，沒法度梳頭髮。」由此可看出農家生活忙碌，也可看出臺灣農業經營的哪項特色？(A)耕地面積太廣 (B)勞力老化工 (C)投入勞力多 (D)技術先進

<答案> C

難易度：中

45.「農無閒年，地無閒田」說明了臺灣農業經營集約度高。造成上述情形的原因為何？(A)農業技術進步 (B)農村勞力老化 (C)地狹人稠 (D)勞力不足

<答案> C

難易度：中

46.愛寫詩句的櫻桃爺爺，最喜歡以陶淵明《歸園田居》詩中：「種豆南山下，草盛豆苗稀。晨興理荒穢，帶月荷鋤歸……」來描述自己清晨下田鬆土除草，星月下才扛著鋤頭回家歇息的田園生活，

爺爺是在描述臺灣農業經營的哪種特色？ (A)耕地狹小 (B)技術先進 (C)集約度高 (D)休閒產業興起

<答案> C

難易度：中

47.小夫研究臺灣和中國的畜牧業，發現中國東南部的牧業類型跟臺灣一樣，多以欄牧為主，由此可推測這兩地有什麼共同特色？ (A)地狹人稠 (B)雨量豐沛 (C)緯度較低 (D)水草不豐

<答案> A

難易度：中

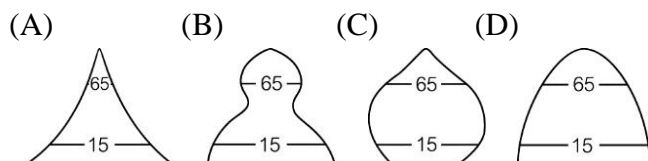
48.附圖中的作物最有可能是什麼？ (A)香蕉 (B)稻米 (C)茶樹 (D)小麥

<答案> C



難易度：中

49.下列哪個人口金字塔圖最能表現出臺灣農村人口的現況？



<答案> B

<解析> 臺灣農村壯年人口外移至都市的情形嚴重

難易度：中

50.建醮祭拜的大神豬，每頭皆重達上千斤，飼養不易，這些大神豬較適合哪種飼養方式？

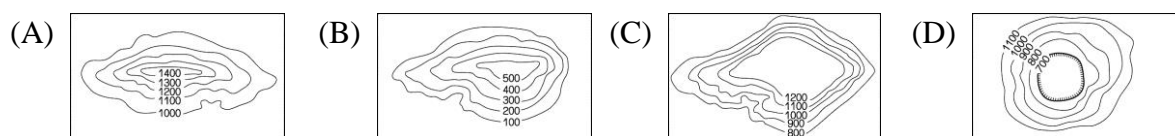
(A)游牧 (B)山牧季移 (C)欄牧 (D)放牧

<答案> C

<解析> 神豬飼養須由專人照顧，各種飼養因素皆須注意，故以欄牧的方式比較合適

難易度：中

51.茶樹主要分布於臺灣的哪種地形區？



<答案> B

難易度：中

52.臺灣稻米產量有供過於求的現象，主要原因為何？(甲)單位面積產量的增加(乙)飲食習慣的改變(丙)人口出生率的降低(丁)稻田面積的擴大 (A)甲、丙 (B)甲、乙 (C)丙、丁 (D)乙、丁

<答案> B

難易度：中

53.偶像劇《波麗士大人》到雲林縣臺西海邊出外景。下列哪種景觀可能出現在畫面中？ (A)養殖漁業 (B)遠洋漁業 (C)貨輪 (D)農田廣布

<答案> A

難易度：難

54.阿里山森林遊樂區中的標語寫著「過度開發森林會帶給人類危機。」關於過度開發森林的影響，下列何者敘述錯誤？ (A)危及野生動物的棲息環境 (B)導致生物種類更多樣、更複雜 (C)造成山坡地災害頻仍 (D)破壞自然生態之平衡

<答案> B

<解析> (B)林相繁雜才會增進物種的多樣化

難易度：難

55.寶寶要交一份關於「臺灣森林資源豐富的原因」，寶寶可以利用下列哪些圖來做說明？(甲)臺灣人口分布圖(乙)臺灣年降水量分布圖(丙)臺灣緯度分布圖(丁)臺灣等高線分層設色圖 (A)甲、乙 (B)乙、丙 (C)丙、丁 (D)甲、丁

<答案> B

難易度：難

56.地理課時，老師與同學在討論臺灣的產業發展狀況。下列哪兩位同學的敘述是正確的？ (A)丁丁、威力 (B)威力、小西瓜 (C)小西瓜、大力 (D)大力、丁丁

丁丁	七月到高雄可觀看到烏魚季的烏魚捕撈
威力	為因應鄉村勞力外流嚴重，現在多使用機械化耕作
小西瓜	牧業主要以欄牧為主，是因為土地面積小
大力	捕撈黑鮪魚的地點，主要是在臺灣的西北部

<答案> B

<解析> 烏魚季在冬天，黑鮪魚捕撈主要在臺灣東北部及南部海域

難易度：難

57.嘉義縣《漁筏、舢舨兼營娛樂漁業暫行管理規則》出爐，副縣長召集相關單位和漁民團體達成共識，劃定鰲鼓農場到八掌溪海域，讓現有漁筏、舢舨兼營觀光活動。嘉義縣早期以哪種漁業最盛行？ (A)養殖漁業 (B)遠洋漁業 (C)近海漁業 (D)觀光漁業

<答案> A

<解析> 臺灣西南沿海養殖漁業密集

● 填充 ●

難易度：易

58. 畜牧業以前多屬農家的副業，以畜養（ ）與家禽為主。隨著國人的需求日增，已轉型為企業化與（ ）化的經營方式。（ ）業也在市場因素的刺激下蓬勃發展。

<答案> 豬隻，專業，酪農

難易度：易

59. 臺灣日治時期（ ）業興盛。民國（ ）年起，政府全面禁止砍伐天然林並積極造林。在森林經營管理上以國土保安、（ ）為主軸，多轉型為發展森林（ ）。

<答案> 伐木，八十，生態保育，遊憩

難易度：易

60. 臺灣四面環海，漁業是重要產業之一。依作業海域的遠近，可分為：①遠洋漁業：作業範圍遍及（ ），是最重要的漁業產值來源。②近海漁業。③養殖漁業：以（ ）地區的沿海地區最密集，漁業產值居次。

<答案> 三大洋，西南部

難易度：易

61. 臺灣（ ）設施興修甚早，農業採（ ）方式經營，可獲得較高的產量。

<答案> 水利，集約，有機肥料，機械化

題組

難易度：易

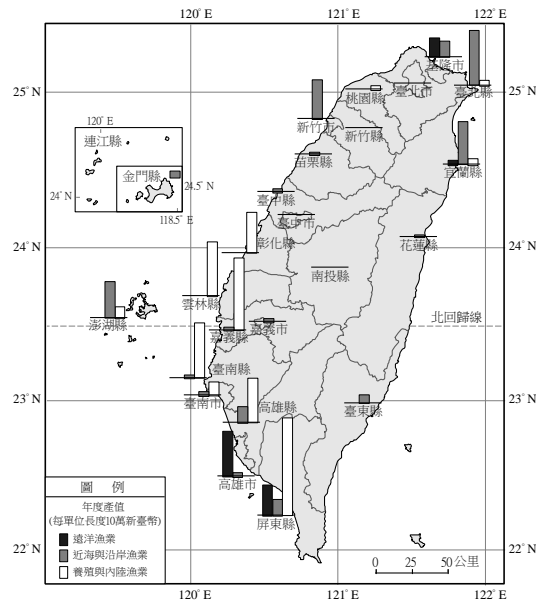
62. 請根據你對臺灣農業經營特色的認識，回答下列問題。

- (1) 臺灣農地日漸減少，但農業產值仍然大增，其主要原因為何？ (A) 稻田轉作 (B) 農業技術先進 (C) 休閒農業興起 (D) 農業經營粗放
- (2) 「農無閒年，地無閒田」是臺灣農業的典型寫照，其主要的原因是下列哪項？ (A) 農業技術先進 (B) 農村勞力老化 (C) 觀光農業興起 (D) 農業經營高度集約
- (3) 影響臺灣農業競爭力的主要因素為下列何者？ (A) 農業人口老化 (B) 耕地狹小破碎 (C) 農產品價格低廉 (D) 農業投資不足

<答案> (1)B；(2)D；(3)B

難易度：易

63. 附圖為民國九十七年臺灣漁業分布圖。請問：

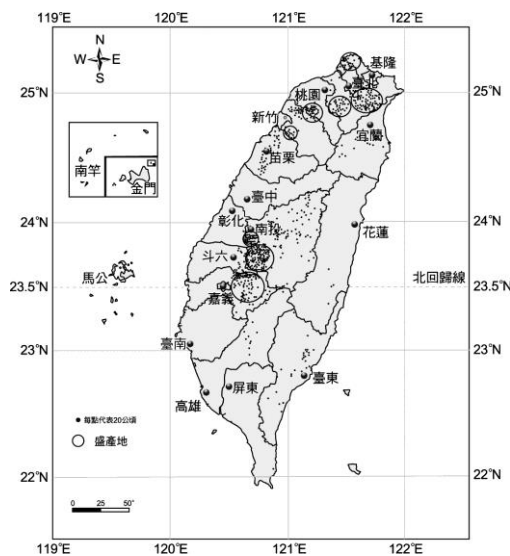


- (1) 臺灣西南沿海盛行哪種漁業？ (A) 遠洋漁業 (B) 近海漁業 (C) 沿岸漁業 (D) 養殖漁業
- (2) 臺灣東北沿岸較盛行近海與沿岸漁業，故當地漁民多在臺灣海域多少哩的範圍作業？ (A) 100 哩 (B) 200 哩 (C) 300 哩 (D) 400 哩
- (3) 此區適合此種漁業方式的原因為何？ (A) 多港灣且接近漁場 (B) 多平淺沙岸 (C) 政府的推廣政策 (D) 捕魚技術先進

<答案> (1)D；(2)B；(3)A

難易度：易

64. 臺灣農業發達，生產多樣的農作物。請問：



- (1) 臺灣農產品豐富，但下列哪種作物並不適合生長在臺灣的自然環境，所以臺灣並無此種作物栽植？ (A) 稻米 (B) 小麥 (C) 甘蔗 (D) 茶葉
- (2) 俗話說「吃飯皇帝大」，米飯是臺灣人重要的食物，有關臺灣稻米的敘述，下列何者錯誤？ (A) 是臺灣最主要的經濟作物 (B) 是臺灣種植面積最大的作物 (C) 主要分布於平原、盆地區 (D) 濁水溪平原是臺灣最大的穀倉
- (3) 附圖為臺灣某種重要經濟作物的分布圖，由圖判斷，此種作物應該是下列何者？ (A) 稻米 (B) 茶葉 (C) 甘蔗 (D) 花卉
- (4) 「臺灣四季都生產水果，不僅種類繁多，且品質佳，讓臺灣有「水果王國」的美稱。」能使臺

灣成就上述結果的原因很多，但下列哪項因素為非？ (A)臺灣四面環海 (B)臺灣地形多樣 (C)臺灣氣候溼熱 (D)臺灣農業科技進步

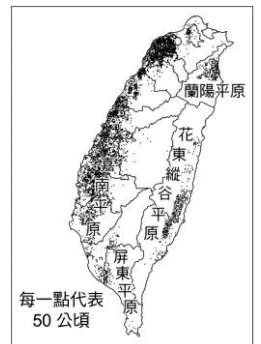
<答案> (1)B；(2)A；(3)B；(4)A

難易度：易

65.曉華全家到雲林拜訪親戚，晚上到古坑吃晚飯、喝咖啡、賞夜景。在店員的介紹下，曉華知道除了由靠近赤道的國家，如巴西、哥倫比亞等進口的咖啡豆之外，店內還有一款當地種植、生產的咖啡豆，名為「23.5」；由於跟進口的咖啡豆比起來，成本高、產量少，所以在市面上無法大量見到其所製作的即溶咖啡、咖啡餅乾或糖果等咖啡相關產品。請問：

- (1)古坑咖啡採用「23.5」為品牌名稱，這應該與下列哪項因素有關？ (A)緯度位置 (B)價錢多寡 (C)人口數量 (D)咖啡產量
- (2)由題目的敘述內容判斷，咖啡適合種植在什麼樣的自然環境？ (A)熱帶地區 (B)氣候寒冷 (C)年溫差大 (D)雨量稀少
- (3)除了咖啡之外，臺灣各類農產品的總產量也往往比他國少，主要原因為何？ (A)技術落後 (B)資金不足 (C)粗放經營 (D)土地狹小

<答案> (1)A；(2)A；(3)D



難易度：易

66.附圖為臺灣某種農作物的分布概況。請問：

- (1)這種農作物主要分布在哪種地形上？ (A)平原 (B)丘陵 (C)山地 (D)台地
- (2)這種農作物最可能是下列何者？ (A)茶 (B)水稻 (C)甘蔗 (D)玉米

<答案> (1)A；(2)B

難易度：易

67.近代臺灣農業經營有許多特色，如農業技術先進、農村勞力老化、農業經營集約度高、休閒農業興起。請問：

- (1)「農民在土地上投入大量資金和勞力，以提高土地單位面積的農業生產量……」以上所述是描寫臺灣的哪種農業特色？ (A)技術先進 (B)集約度高 (C)農村勞力老化 (D)休閒農業興起
- (2)此農業特色的形成，是受到哪項臺灣地理環境條件影響？ (A)土壤貧瘠 (B)氣候乾冷 (C)耕地狹小 (D)農村勞力老化
- (3)電視上偶爾能看見「臺北陽明山海芋田」、「彰化向日葵田」、「臺南白河蓮花節」的農委會宣傳廣告。上述活動反映出臺灣農業的哪項特徵？ (A)休閒農業興起 (B)農業勞力老化 (C)農業技術先進 (D)農業經營集約度高

<答案> (1)B；(2)C；(3)A

難易度：中

68.戲劇可以陶冶人的真性情，總令人投身於美麗的场景與劇情當中。近年來，臺灣吹起一陣「戲劇追星風」，影迷們不但可以親自體驗劇中的美景，也能夠藉由戲劇的播出，了解臺灣各地的產業特色。請問：

臺灣簡圖



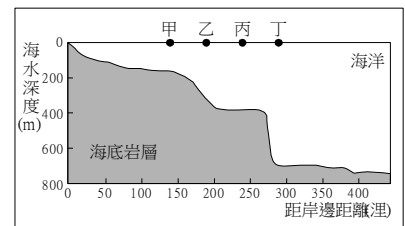
- (1)最近人氣超級旺的小小彬在偶像劇「下一站, 幸福」中表現出色, 劇中他與媽媽慕澄居住在花田村。請問: 現實生活中, 臺灣主要的花卉集中區, 也是著名的公路花園是位於圖中哪個地區?
(A)甲 (B)乙 (C)丙 (D)丁
- (2)紀錄片「無米樂」反應出臺灣臺南市後壁區稻農的心聲, 也記錄農民純樸又認分的性格。請問: 「無米樂」最有可能在圖中哪個地區拍攝? (A)甲 (B)乙 (C)丙 (D)丁
- (3)偶像劇「比賽開始」當中有個火紅的場景光復糖廠, 興建於 1913 年, 當時製糖廠的原料 — 甘蔗栽種範圍遍及花蓮縣。請問: 目前轉型成為觀光性質的光復糖廠, 是位於圖中哪個地區? (A)甲 (B)乙 (C)丙 (D)丁
- (4)連續劇「魯冰花」是描寫民國六十年代的臺灣社會, 片中主角阿明的父親種植「東方美人茶」, 他不噴灑農藥, 僅用有機肥料來栽種茶樹。請問: 「東方美人茶」的產地最可能位於圖中哪個地區? (A)甲 (B)乙 (C)丙 (D)丁

<答案> (1)B ; (2)C ; (3)D ; (4)A

難易度: 難

69. 漁夫小雷平日以捕魚維生, 附圖是他經常捕魚的海域海底剖面圖。請問:

- (1)根據附圖顯示, 甲、乙、丙、丁何處海域屬於大陸棚, 較有機會捕撈到豐富的魚類? (A)甲 (B)乙 (C)丙 (D)丁
- (2)小雷平常從事「近海漁業」時, 通常最遠可以到何處海域捕魚, 比較不會和其他國家漁船發生糾紛? (A)甲 (B)乙 (C)丙 (D)丁



<答案> (1)A ; (2)B

2-3 全球化下的臺灣農業

● 單 選 ●

難易度：易

1. 臺灣對外出口的荔枝「玉荷包」，在海外市場上遇到來自中國荔枝「妃子笑」的激烈競爭，我們盛產的水果雖然品質較佳，然而卻因價格較高，不敵中國生產的水果。臺灣農業生產成本較高導致商品價格高，與下列哪項因素關係最為密切？ (A) 耕地面積狹小 (B) 氣候過於溼熱 (C) 土壤較為貧瘠 (D) 對外交通不便

<答案> A

難易度：易

2. 關於精緻農業的描述，下列哪項正確？ (A) 包裝精美的農業 (B) 口感細緻的農產品 (C) 品質高級化的農業 (D) 銷售產品精緻量少的農業

<答案> C

難易度：易

3. 近年來，臺灣政府努力為臺灣農業尋找新契機，下列何者為可採行的正向策略？ (A) 發展休閒農業 (B) 禁止進口國外農產品 (C) 以平價農業取代精緻農業 (D) 壓抑城鄉工商業發展

<答案> A

難易度：易

4. 臺灣加入世界貿易組織 (WTO) 之後，將面對更加激烈的市場競爭，國內產業如果要提高競爭力，下列哪項是最具體可行的做法？ (A) 降價是唯一途徑，價格低就能贏得市場 (B) 利用國家政策和法律的制定來保護國內產品的銷售量 (C) 放棄國外市場，一切產品內銷即可 (D) 加強技術開發，提高品質和售後服務質量

<答案> D

<解析> (A) 降價只會造成惡性競爭

難易度：易

5. 世界各國在經濟上產生相互依賴的關係，其最主要的因素為何？ (A) 農業的技術合作 (B) 工業的技術合作 (C) 貿易的買賣往來 (D) 聯合國規定

<答案> C

難易度：易

6. 「這裡為酪農業轉型的牧場，目前不僅提供民眾參觀擠奶、餵牛羊吃草，還可以 DIY 鮮奶凍，學習製作小餅乾等，適合全家一起過來走走。」這種農業經營方式，是屬於什麼農業類型？ (A) 休閒農業 (B) 生技農業 (C) 粗放農業 (D) 游牧

<答案> A

難易度：易

7.臺南市後壁區臺糖烏樹林農業中心，從事蝴蝶蘭種苗外銷的農業生產，擁有全世界最大的蝴蝶蘭溫室，在外銷市場極具競爭力。這種農業經營方式，屬於哪種精緻農業？ (A)農產品全供給外銷 (B)從事高品質、高價位的農業生產 (C)以結合生態資源為主要特色 (D)所須投入的資金較少

<答案> B

難易度：易

8.臺灣加入 WTO 的好處為何？ (A)紅利增加 (B)自由貿易 (C)減低競爭壓力 (D)所有物價大幅下降

<答案> B

難易度：易

9.臺灣和中國的交流日趨活絡，但對於從事哪種產業活動的人民來說，衝擊最大？ (A)農業 (B)工業 (C)商業 (D)服務業

<答案> A

難易度：易

10.臺灣加入世界貿易組織 (WTO) 之後，衝擊最大的是農業，導致臺灣的農業缺乏競爭力最主要的原因是什麼？ (A)農產成本高昂 (B)農產品價格偏低 (C)農村勞力外流 (D)農業技術落後

<答案> A

難易度：易

11.自從臺灣加入該組織後，使得國內的第一級產業產品備受衝擊，下列何者是該組織的簡稱？ (A) WTO (B) WHO (C) CNN (D) NASA

<答案> A

難易度：易

12.隨著工商業快速發展，農業日漸萎縮，政府應如何提高農民的所得？ (A)尋求新的農業經營方式 (B)提高單位面積產量 (C)發展食品加工業 (D)引進新品種，改進施肥

<答案> A

難易度：易

13.臺灣氣候暖溼、林木蓊鬱，下列哪項是政府近年採取的林業政策？ (A)砍伐與保育並重 (B)砍伐重於保育 (C)不砍伐也不保育 (D)保育重於砍伐

<答案> D

難易度：易

14.香吉士特地為熟女妮可羅賓準備佳餚美食，如蔥爆草蝦、煙燻鰻魚、蒜泥九孔、生鮮虱目魚湯，這些美食材料主要源自於哪種類型的漁業？ (A)遠洋漁業 (B)近海漁業 (C)淡水漁業 (D)養

殖漁業

<答案> D

難易度：易

15.現在到超級市場買東西，可以買到日本的稻米、美國加州的葡萄、澳洲的奇異果等各國各式農產品，不只選擇性增加，價格也比以往便宜許多。這是因為我國已經加入了哪個國際組織的緣故？
(A)聯合國糧農組織 (B)東南亞國家國協 (C)世界貿易組織 (D)經濟合作暨開發組織

<答案> C

難易度：易

16.現在到超級市場買東西，可以買到日本的稻米、美國加州的葡萄、澳洲的奇異果等各國各式農產品，不只選擇性增加，價格也較以往便宜許多。這是因為我國已經加入了哪國際性團體？ (A) WHO (B) WTO (C) APEC (D) OPEC

<答案> B

難易度：易

17.臺灣正積極進行農業的品種改良、病蟲害防治以及改進生產技術，其最重要的目的是什麼？
(A)為揚名國際 (B)吸引外商投資 (C)提高農業競爭力 (D)增加農地面積

<答案> C

難易度：易

18.有一個全球性的經濟貿易組織，負責維持國際貿易的秩序，我國是其中的會員國之一。這個組織是指下列哪個機構？ (A)世界衛生組織(WHO) (B)世界貿易組織(WTO) (C)聯合國(UN) (D)亞太經濟合作會議(APEC)

<答案> B

難易度：易

19.臺灣加入世界貿易組織(WTO)會直接面臨下列哪種問題？ (A)開放市場、調降關稅的競爭壓力 (B)統一貨幣 (C)限制貿易種類 (D)經濟發展不均衡

<答案> A

難易度：易

20.臺灣為了因應加入WTO後所帶來的衝擊，臺灣農業應朝哪個方向發展？ (A)單一化農業 (B)大規模的粗放式農業 (C)勞力密集的農業 (D)精緻化、高價值化的農業

<答案> D

難易度：中

21.「近年來，臺灣有許多農產品出現『量少、價高、多樣、特殊』的情形，如有機高山茶、蝴蝶蘭等，吸引眾人的目光，賺取更高的利潤。」上述最可能是指哪種農業型態？ (A)集約農業 (B)

粗放農業 (C)休閒農業 (D)精緻農業

<答案> D

難易度：中

22.苗栗縣大湖鄉有許多的草莓園，假日提供遊客採果踏青，這反映目前臺灣農業活動的哪項特色？
(A)農業人口老化，年輕人力外流 (B)休閒農業的興起 (C)農業技術先進，單位面積產量提高 (D)農產品需求增加

<答案> B

難易度：中

23.發展休閒農業的優點不包括下列哪項？ (A)增加農產附加價值 (B)提供國民休閒 (C)增進國民對農業的認識 (D)增加農民耕地面積

<答案> D

難易度：中

24.臺灣自加入世界貿易組織之後，對臺灣的經濟發展有何影響？ (A)對高科技工業的衝擊最大 (B)稻米進口量激增，導致價格上揚，帶動農業發展 (C)農業所面臨的風險最小 (D)消費者對於商品的選擇性更趨多元

<答案> D

<解析> (A)最小；(B)進口激增則價格下跌；(C)最大

難易度：中

25.兩岸先後加入 WTO 後，部分中國的農產品逐漸對臺灣的農業造成威脅，下列哪項農產品所造成的衝擊較小？ (A)鮮乳 (B)花生 (C)紅豆 (D)大蒜

<答案> A

難易度：中

26.(甲)保留原先品種與耕作方式(乙)病蟲害防治(丙)引進新品種(丁)改進生產管理技術。臺灣為提高農業競爭力，正積極進行上述哪些工作？ (A)甲乙丙 (B)乙丙丁 (C)甲乙丁 (D)甲丙丁

<答案> B

難易度：中

27.影響臺灣農作競爭力的主要因素為下列何者？ (A)農業人口老化 (B)農業成本高昂 (C)農產品價格低廉 (D)農業投資不足

<答案> B

難易度：中

28.臺灣畜牧業為了因應時代潮流，紛紛將行銷重點從傳統純粹畜牧型態轉成具有休閒娛樂的型態。下列何者是該畜牧業轉型的主要原因？ (A)人口逐年增加 (B)畜牧企業化，因應市場需求 (C)

國人飲食習慣改變 (D)喝牛奶的人口減少

<答案> B

難易度：中

29.我們常在電視看見「臺南白河蓮花節」、「臺南玉井芒果節」的宣傳廣告。此現象反映臺灣農業活動具有下列哪項特色？ (A)農村勞力老化 (B)集約度高 (C)觀光農業興起 (D)技術先進

<答案> C

難易度：中

30.近年彰化縣時常舉辦花卉博覽會，這顯示臺灣的農業結構逐漸朝向哪種形式發展？ (A)農業完全仰賴外國進口 (B)政府鼓勵發展精緻農業 (C)稻收改成一年一穫 (D)工業完全取代農業

<答案> B

難易度：中

31.近年來果菜市場上經常出現紐西蘭的奇異果、美國華盛頓州的櫻桃，這是因下列哪種因素所帶來的影響？ (A)臺灣加入 WTO (B)農民非法走私 (C)農業型態轉型成功 (D)純粹流行趨勢

<答案> A

難易度：中

32.臺灣加入 WTO 之後，國內的農業受到不小的衝擊。下列何者並非臺灣農業應轉型的方向？ (A)休閒農業 (B)精緻農業 (C)生產高附加價值的農產品 (D)稻作改成一年三穫增加生產量

<答案> D

難易度：中

33.近年來臺灣致力於農業活動的轉型，雖然成效顯著，但許多的問題也隨之而來，下列何者是臺灣農業轉型過程中所產生的問題？ (A)水土資源受到汙染 (B)氣候改變 (C)人口大量外移 (D)農民受教機會減少

<答案> A

難易度：中

34.由於加入了世界貿易組織，使得臺灣的農林漁牧業得面臨轉型，而下列哪個項目不是轉型的方向？ (A)精緻農業 (B)國際合作 (C)休閒農業 (D)單一物產

<答案> D

難易度：中

35.臺灣加入世界貿易組織後，必須進口國外的農產品，造成國內農民的恐慌。下列四位農夫提出的因應方法，何者最為適宜？ (A)甲農夫：我要改種溫室蔬菜 (B)農夫乙：我要採粗放經營，降低成本 (C)丙農夫：我要開闢山坡地，增加耕地 (D)丁農夫：我要降價促銷

<答案> A

難易度：中

36.「鮮豔宛如紅寶石的洛神花萼布滿臺東縣金峰鄉，週休假期出遊的親子們正拿著剪刀、雨傘柄體驗採花、去籽的樂趣。金峰鄉洛神花季每日吸引上千位民眾參與。」從上述報導中我們可以看出哪項事實？ (A)臺灣的農業未受加入世界貿易組織(WTO)影響 (B)農業活動逐漸轉型為休閒農業 (C)臺東縣人口眾多 (D)現代人重視休閒活動

<答案> B

難易度：中

37.針對臺灣農業比例下降的情形，我們應該要採取哪種應對措施？ (A)政府收購滯銷農產品 (B)發展農業多元化 (C)退出世界貿易組織(WTO) (D)輔導所有的農民轉行

<答案> B

難易度：中

38.「日韓桃、紐澳梨、飄洋過海全到齊；路邊選，超市挑，上網也可買得到；中國品，尤便宜，不吃都覺得可惜；品種多，競爭烈，嘗遍百果不稀奇。」這段話生動的描繪出哪些現象？(甲)臺灣加入世界貿易組織(WTO)後的市場開放(乙)臺灣農產品改良技術高明(丙)大陸農產品偷渡嚴重(丁)臺灣面臨全球化的挑戰 (A)甲、乙 (B)丙、丁 (C)甲、丁 (D)乙、丙

<答案> C

● 填充 ●

難易度：易

39.精緻農業培育高()、高()的農作物，以提升產值與市場競爭力。如屏東縣的「黑金剛」()、臺南縣南化鄉的「愛文」()，及全省多處的蝴蝶蘭種苗，已銷售到歐、美及日本等地。

<答案> 品質，價位，蓮霧，芒果

難易度：易

40.民國九十一年臺灣加入()後，面臨了()開放及調降()的競爭壓力，直接衝擊本土農、漁民的生計。

<答案> 世界貿易組織，市場，進口關稅

● 題組 ●

難易度：易

41.「健康、休閒、活化」是花蓮縣富里鄉有機米產銷班的經營理念，為發展有機及生態產業，建立豐富的生態調查資料，並辦理深度農村體驗之旅充分發揮「生產、生活、生態」等功能。請問：
(1)富里鄉有機米產銷班為提升農業附加價值，舉辦生態導覽、有機香皂製作，經營養生餐飲，吸

引許多都市人前來旅遊。這使當地產業活動如何轉型？ (A)由第一級產業轉為第二級產業 (B)由第二級產業轉為第三級產業 (C)由第三級產業轉為第一級產業 (D)由第一級產業轉為第三級產業

(2)富里鄉有機米產銷班兼具「精緻農業」與「休閒農業」的特色。這與臺灣 2002 年加入哪個經貿組織，農民積極改變傳統農業經營方式有關？ (A)世界衛生組織 (WHO) (B)世界貿易組織 (WTO) (C)亞太經濟合作會議 (APEC) (D)兩岸經濟合作議題 (ECFA)

<答案> (1)D；(2)B

